


# పదవ తరగతి మోడల్ పేపర్స్ జూలై- 2020



---

ఆంధ్రప్రదేశ్ విశ్వవిద్యాలయ ఫెడరేషన్

కృష్ణాజిల్లా శాఖ

## ముందుమాట

ప్రియమైన విద్యార్థులకు...


పదవ తరగతి పబ్లిక్ పరీక్షలకు సిద్ధమవుతున్న విద్యార్థులకు యూటిఎఫ్ కృష్ణాజిల్లా శాఖ పక్షాన శుభాభినందనలు. 10వతరగతి పరీక్షలు జూలై 10వతేదీనుంచి జరగబోతున్నాయి. ఈ సంవత్సరం కరోనా కారణంగా 11 పేపర్లను 6పేపర్లకు తగ్గించడం జరిగింది. ఒక్కొక్కపేపర్ 100మార్కులకు నిర్వహించబడుతుంది.

ఎస్ ఎస్ సి బోర్డువారు మారిన 6పేపర్లకు సంబంధించి ఏఏ ప్రశ్నలకు ఎన్ని మార్కులు కేటాయిస్తారో తెలిపే విధంగా ప్రతి సబ్జెక్ట్లో బ్లూప్రింట్ విడుదల చేయడం జరిగింది. అదేవిధంగా ప్రతినబ్జెక్ట్లో ఒక మోడల్ పేపర్ను విడుదల చేయడం జరిగింది.

ప్రస్తుతం కరోనా దృష్ట్యా లాక్డౌన్ కొనసాగుతున్నందున విద్యార్థుల సౌకర్యార్థం ఆంధ్రప్రదేశ్ ఐక్యఉపాధ్యాయ ఫెడరేషన్, కృష్ణాజిల్లాశాఖ 10వతరగతి విద్యార్థుల అవగాహన కోసం ఈ బుక్లెట్ను అందుబాటులోకి తీసుకొని వచ్చింది.

ఈ బుక్లెట్లోని అంశాలు:

1. 10వ తరగతి పరీక్షల నూతన టైంట్బుల్
2. ఎస్ఎస్సి బోర్డువారి ఒక మోడల్ పేపర్
3. ఇంగ్లీషు గ్రామర్
4. ఒక ఇంగ్లీషు మోడల్ పేపర్ జవాబులతో ఇవ్వడం జరిగింది.
5. బ్లూ ప్రింట్ సబ్జెక్ట్ల వారీగా ( మార్కుల కేటాయింపు)
6. తెలుగులో ముఖ్యమైన వ్యాకరణం
7. హిందీలో పాఠం వారీగా కొన్ని ముఖ్యమైన ప్రశ్నలు



ఈ బుక్లెట్ మీకందరికీ తప్పనిసరిగా ఉపయోగపడుతుంది అని ఆశిస్తూ మీరందరూ మంచి గ్రేడ్ మార్కులతో ఉత్తీర్ణులు కావాలని కోరుకుంటూ....

ఎస్.పి.మనోహర్ కుమార్,

జిల్లా ప్రధానకార్యదర్శి,

యు టి ఎఫ్, కృష్ణాజిల్లాశాఖ.

**ఆంధ్రప్రదేశ్ ఐక్యఉపాధ్యాయ ఫెడరేషన్**  
**కృష్ణాజిల్లా శాఖ**

**పదవ తరగతి మాదిరి ప్రశ్న పత్రం, జూలై-2020**

**తెలుగు ప్రథమ భాష) 01T & 02T - మార్కుల విభజన**

Time : 3 Hrs. 15 Min.]

[Max. Marks : 100

ఈ ప్రశ్న పత్రంలో మూడు విభాగాలు ఉంటాయి. 1 నుండి 33 ప్రశ్నలు ఉంటాయి.

**విభాగం-I (అవగాహన-ప్రతిస్పందన) 32 మార్కులు**

ప్రశ్నల సంఖ్య	ప్రశ్న స్వరూపం	ప్రశ్న స్వభావం	మార్కులు	పేపరు
1.	వ్యాసరూప	ప్రతిపదార్థం	8 మా	I
2.	వ్యాసరూప	పద్యపూరణ, భావం	8 మా	I
3.	వ్యాసరూప	రామాయణ సంఘటన క్రమం	8 మా	II
4.	వ్యాసరూప	అపరిచిత గద్యం	8 మా	II

పేపర్ I నుండి 16 మార్కులు, పేపర్ II నుండి 16 మార్కులు. మొత్తం 32 మార్కులు.

**విభాగం-II (వ్యక్తికరణ-సృజనాత్మకత) 36 మార్కులు**

ప్రశ్నల సంఖ్య	ప్రశ్న స్వరూపం	ప్రశ్న స్వభావం	మార్కులు	పేపరు
5.	లఘు	పద్యభాగంలో కవి పరిచయం	4 మా	I
6.	లఘు	గద్యభాగం ప్రక్రియ	4 మా	I
7.	లఘు	ఉపవాచకం పాత్ర స్వభావం	4 మా	II
8.	వ్యాసరూప	గద్యభాగ వ్యాసరూప ప్రశ్న	8 మా	I
9.	వ్యాసరూప	ఉపవాచక వ్యాసరూప ప్రశ్న	8 మా	II
10.	వ్యాసరూప	సృజనాత్మక ప్రశ్న (లేఖ / కరపత్రం)	8 మా	II

పేపర్ I నుండి 16 మార్కులు, పేపర్ II నుండి 20 మార్కులు. మొత్తం 36 మార్కులు.

**విభాగం-III (భాషాంశాలు) 32 మార్కులు**

ప్రశ్నల సంఖ్య	ప్రశ్న స్వరూపం	ప్రశ్న స్వభావం	మార్కులు	పేపరు
11.	అతిలఘు	అలంకారం (అలంకారం గుర్తించుట)	2 మా	I
12.	అతిలఘు	ఛందస్సు (ఏ పద్యపాదమో గుర్తించుట)	2 మా	I
13.	లక్ష్యాత్మక	అర్థాలు ★ అర్థం రాయడం, ★ బహుళార్థం	1 మా	I
14.	లక్ష్యాత్మక	పర్యాయపదాలు ★ రాయడం, ★ బహుళార్థం	1 మా	I

15.	లక్ష్యాత్మక	ప్రకృతి ★ రాయడం, ★ బహుళార్థం	2 మా	I
16.	లక్ష్యాత్మక	వికృతి ★ రాయడం, ★ బహుళార్థం	2 మా	I
17.	లక్ష్యాత్మక	సంధి (విడదీసి రాయడం)	1 మా	I
18.	లక్ష్యాత్మక	సంధి (సంధి కలపడం)	1 మా	I
19.	లక్ష్యాత్మక	సంధి (సంధి పేరు గుర్తించుట)	1 మా	I
20.	లక్ష్యాత్మక	సమాసం (విగ్రహవాక్యం రాయడం)	1 మా	I
21.	లక్ష్యాత్మక	సమాసం (సమాసం పేరు రాయడం)	1 మా	I
22.	లక్ష్యాత్మక	సమాసం (సమాసానికి ఉదాహరణ గుర్తించుట)	1 మా	I
23.	అతిలఘు	జాతీయం (సొంతవాక్యంలోని జాతీయం గుర్తించుట)	2 మా	II
24.	అతిలఘు	జాతీయం (ఇచ్చిన జాతీయంతో సొంతవాక్యం రాయడం)	2 మా	II
25.	అతిలఘు	జాతీయం (అర్థం లేదా సందర్భం రాయడం)	2 మా	II
26.	లక్ష్యాత్మక	ఆధునిక వచనం (బహుళార్థం)	1 మా	II
27.	లక్ష్యాత్మక	వ్యతిరేకార్థక వాక్యం (రాయడం)	1 మా	II
28.	లక్ష్యాత్మక	వ్యతిరేకార్థక వాక్యం (వ్యతిరేకార్థక పదం గుర్తించుట)	1 మా	II
29.	లక్ష్యాత్మక	కర్తరి వాక్యం (కర్మణి వాక్యంలోని మార్పుట)	1 మా	II
30.	లక్ష్యాత్మక	కర్మణి వాక్యం (ఖాళీని పూరించుడం)	1 మా	II
31.	లక్ష్యాత్మక	వాక్యభేదం (ఏ రకమైన వాక్యమో రాయడం)	1 మా	II
32.	లక్ష్యాత్మక	వాక్యభేదం (ఏ రకమైన వాక్యమో రాయడం)	1 మా	II
33.	లక్ష్యాత్మక	వాక్యభేదం (బహుళార్థం గుర్తించడం)	1 మా	II

పేపర్ I నుండి 18 మార్కులు, పేపర్ II నుండి 14 మార్కులు. మొత్తం 32 మార్కులు.

**తెలుగు ప్రథమ భాష పేపరు I, II ల వారీగా మార్కుల విభజన**

సామర్థ్యం	పేపర్ I మార్కులు	పేపరు II మార్కులు	మొత్తం మార్కులు
I. అవగాహన-ప్రతిస్పందన	16	16	32
II. వ్యక్తికరణ-సృజనాత్మకత	16	20	36
III. భాషాంశాలు	18	14	32
<b>మొత్తం</b>	<b>50</b>	<b>50</b>	<b>100</b>

# పదవ తరగతి మాదిరి ప్రశ్న పత్రం, జూలై-2020

## తెలుగు పేపర్-I & II

(ప్రథమ భాష)

సమయం : 3 గం. 15 ని॥

గరిష్ట మార్కులు : 100

విద్యార్థులకు సూచనలు :

1. ప్రశ్న పత్రంలో మూడు విభాగాలు ఉంటాయి.
2. ప్రశ్న పత్రము చదువుకోవడానికి 15 ని॥లు, జవాబులు రాయడానికి 3 గం॥ సమయం ఉంటుంది.
3. అన్ని ప్రశ్నలకు సమాధానములు సమాధాన పత్రంలోనే రాయాలి.
4. సమాధానాలు గుండ్రంగా, స్పష్టంగా రాయాలి.

### విభాగము-I

32 మార్కులు

#### I. అవగాహన-ప్రతిస్పందన (32 మార్కులు)

కింది పద్యాలలో ఒకదానికి ప్రతిపదార్థం రాయండి.

1 × 8 = 8 మా.

1. “అ-యేమీ ? యొక రాణివాసమును బుణ్యావాసమున్ దెచ్చినా  
వా ? యే హైందవపుడైన నీ గతి నమర్యాదన్ బ్రవర్తించునే ?  
మా యాజ్ఞన్ గమనింపవో ? జయమదోన్మాదంబునన్ రేచి, నీ  
యాయుస్సూత్రము లీవ త్రుంచుకొనెదో ? యౌధత్య మోర్వన్ జుమీ”

(లేదా)

వేద పురాణశాస్త్ర పదవీ నదవీయసియైనపెద్దము  
తైదువ కాశికానగర హాటకపీఠ శిఖాధిరూఢ య  
య్యాదిమ శక్తి, సంయమివరా ! యిటు రమ్మని పిల్చె హస్తసం  
జ్ఞాదరలీల రత్నఖచితాభరణంబులు ఘల్లుఘల్లునన్

కింది పద్యాలలో ఒకదానిని పాదభంగం లేకుండా పూరించి, భావం రాయండి.

1 × 8 = 8 మా.

2. నీరము తప్త లోహమున .....
- .....
- .....
- ..... గొల్చువారికిన్.

(లేదా)

తన చూపంబుధి మీదఁ జూచి .....

.....

..... లంఘించుచోన్.

#### 3. రామాయణంలోని ఒక కాండ నుండి ఇచ్చిన కింది సంఘటనలను వరుసక్రమంలో రాయండి.

8 మా.

- అ) మిథిలానగర సమీపానికి చేరుకున్నారు విశ్వామిత్ర రామలక్ష్మణులు.
- ఆ) దేవతలందరూ బ్రహ్మను చేరి తమ గోడు వెళ్ళబోసుకున్నారు.
- ఇ) ఓటమినంగీకరించిన పరశురాముడు తక్షణమే మహేంద్ర పర్వతానికి వెళ్ళిపోయాడు.
- ఈ) తాటకవధతో దుష్టసంహారానికి పూనుకొన్నాడు రాముడు.

#### 4. కింది అపరిచిత గద్యాన్ని (ప్రకటనను) చదివి ఇచ్చిన ప్రశ్నలకు జవాబులు రాయండి.

8 మా.

- అ) కరోనా భూతాన్ని తరుముదాం - భరోసా గల జీవితాన్ని గడుపుదాం  
ప్రజలందరికీ విజ్ఞప్తి !

చైనా దేశంలో పుట్టి ప్రపంచాకంఠా విస్తరించిన మహమ్మారి కరోనా వైరస్. దీనికి ఇంతవరకు టీకా మందును కనుగొనలేదు. వృద్ధుల మీద దీని ప్రభావం ఎక్కువగా ఉంటోంది. ఇది తుమ్ము, దగ్గుల ద్వారా, కరచాలనాల ద్వారా వేగంగా వ్యాపిస్తుంది. ఏదైనా వస్తువును ముట్టుకునేముందు, ముట్టుకున్న తరువాత, చేతులను శానిటైజర్ తో బాగా శుభ్రం చేసుకోవాలి. అలా చేస్తే ఇది మీ దరికి రాదు. కరచాలనాలు ఇవ్వకపోవడం, భౌతికదూరం పాటించడం, మాస్కులను ధరించడం, ప్రభుత్వ ఆదేశాలను తప్పకపాటిస్తూ బయట ఎక్కువగా తిరగకుండా, ఇంట్లోనే ఉండడం మొదలగు నియమాలు పాటించడం ద్వారా కరోనా వ్యాప్తిని అడ్డుకోవచ్చు.

కనుక, ప్రజారోగ్య శాఖవారి సూచనలను అనుసరించి నడుచుకొంటూ, కరోనా వైరస్ నిర్మూలనకు సహకరించవలసిందిగా కోరుచున్నాము.

స్థలం : అమరావతి

ప్రజారోగ్యశాఖ

తేది : 25.03.2020

ఆంధ్రప్రదేశ్

ప్రశ్నలు :

- అ) కరోనా వైరస్ ఏ దేశంలో పుట్టింది ?
- ఆ) కరోనా వైరస్ ప్రభావం ఎవరి మీద ఎక్కువగా ఉంటోంది ?
- ఇ) ఈ ప్రకటన జారీచేసింది ఎవరు ?
- ఈ) ఈ ప్రకటన ఆధారంగా ఒక ప్రశ్న తయారుచేయండి.

## విభాగము-II

### II. వ్యక్తీకరణ-స్మజనాత్మకత (36 మార్కులు)

36 మార్కులు

కింది ప్రశ్నలకు నాలుగుడు వాక్యాలలో సమాధానాలు రాయండి.

3 × 4 = 12 మా.

5. 'మాణిక్యవీణ' పాఠ్యభాగ కవి విద్వాన్ విశ్వం గురించి మీకు తెలిసిన విషయాలు రాయండి.

6. 'వ్యాసం' ప్రక్రియను వివరించండి.

7. 'భరతుడు' పాత్ర స్వభావం రాయండి.

కింది ప్రశ్నలకు 8 నుండి 10 వాక్యాలలో జవాబులు రాయండి.

3 × 8 = 24 మా.

8. 'గోరంత దీపాలు' కథానికలోని వృద్ధుడు, ప్రయోజకుడైన యువకుని మధ్య ఉన్న సంబంధాన్ని అనురాగాన్ని సొంతమాటల్లో వివరించండి.

(లేదా)

“పల్లెటూళ్ళు ప్రశాంత జీవిత సౌఖ్యానికి పుట్టిళ్ళు” దీన్ని సమర్థిస్తూ సమాధానం రాయండి.

9. వాలి సుగ్రీవుల విరోధానికి కారణాలు వివరించండి.

(లేదా)

మానవ జీవితాన్ని సంస్కరించగల మహాకావ్యం “రామాయణం” - దీని ప్రాశస్త్యాన్ని గురించి రాయండి.

10. పేదలకు దానం చేయటం వల్ల మనం పొందే మేలును గురించి తెలియజేస్తూ మిత్రునికి లేఖ రాయండి.

(లేదా)

మహిళల పట్ల చూపుతున్న వివక్షలను, వారి మీద జరుగుతున్న దాడులను ఖండిస్తూ, మహిళలందరూ ధైర్యంతో మెలగాలని తెలియజేసేలా ఒక కరపత్రం తయారుచేయండి.

## విభాగము-III

32 మార్కులు

### III. భాషాంశాలు (32 మార్కులు)

11. “దేవాలయ గోపురాలు ఆకాశానికంటుతున్నాయి” ఈ వాక్యంలోని అలంకారాన్ని గుర్తించి రాయండి.

1 × 2 = 2 మా.

12. కింది పద్యపాదానికి గుర్తించి, గణవిభజన చేసి ఏ పద్యపాదమో రాయండి.

1 × 2 = 2 మా.

వెన్నెల వెల్లి పొల్కడలి వ్రేకదనంబునఁ బేర్చి దిక్కులన్

కింది ప్రశ్నలకు సూచించిన విధంగా జవాబులు రాయండి.

13. అ) ఉపాధ్యాయునికి చేరువలో ఉంటే విజ్ఞానం పెరుగుతుంది.

(గీత గీసిన పదానికి అర్థం రాయండి.)

1 మా.

అ) రుగ్మతలు గలవారు తప్పుక చికిత్సలు చేయించుకోవాలి.

(గీత గీసిన పదానికి అర్థం గుర్తించి విడిగా రాయండి.)

1 మా.

అ) డబ్బు

అ) జబ్బు

ఇ) అధికారం

ఈ) అవసరం

14. అ) కరోనా కేసుల నిర్ధారణ పరీక్షలలో ఆంధ్రప్రదేశ్ దేశంలోనే గొప్ప ఖ్యాతి గాంచింది.

(గీత గీసిన పదానికి పర్యాయపదాలు రాయండి)

1 మా.

అ) ప్రసిద్ధి ధర నిలకడగా ఉండటం లేదు.

(గీత గీసిన పదానికి పర్యాయపదాలు గుర్తించి విడిగా రాయండి)

1 మా.

అ) పుత్తడి - బంగారం

అ) పుత్తడి - కంచు

ఇ) పుత్తడి - ఇత్తడి

ఈ) పుత్తడి - వెండి

15. అ) అమ్మ బ్రాస్లోనే నేను మాట్లాడతాను.

(గీత గీసిన పదానికి ప్రకృతి రాయండి)

1 మా.

అ) సిరి ఉండని గర్వపడరాదు.

(గీత గీసిన పదానికి ప్రకృతి పదం గుర్తించి విడిగా రాయండి)

1 మా.

అ) సరి

అ) కేసరి

ఇ) శ్రీ

ఈ) సరిసరి

16. అ) పిల్లలు పెద్దల పట్ల గౌరవం కలిగి ఉండాలి.

(గీత గీసిన పదానికి వికృతిపదం రాయండి)

1 మా.

అ) మంచి పుస్తకం చదవడం వలన జ్ఞానం కలుగుతుంది.

(గీత గీసిన పదానికి వికృతిపదం గుర్తించి విడిగా రాయండి)

1 మా.

అ) మస్తకము

అ) బొత్తము

ఇ) బెత్తము

ఈ) పొత్తము

17. మనం ఆరోగ్యం పట్ల అత్యంత జాగ్రత్త వహించాలి.

(గీత గీసిన పదాన్ని విడదీసి రాయండి)

1 మా.

18. రామ + అయ్య సంధి పదాలను కలిపి రాయండి.

1 మా.

19. శివాజీ యవన వజ్రాంగనను సత్కరించాడు.

(గీత గీసిన పదంలోని సంధిని గుర్తించి విడిగా రాయండి)

1 మా.

అ) సవర్ణదీర్ఘసంధి

అ) గుణసంధి

ఇ) ఉత్పసంధి

ఈ) ఇత్ససంధి

20. వ్యాసుడు తన శిష్యులతో కలిసి గంగానదికి వెళ్ళాడు.  
(గీత గీసిన సమాసపదానికి విగ్రహవాక్యం రాయండి) 1 మా.
  21. సూర్యచంద్రులు మనకు ప్రత్యక్ష దైవాలు.  
(గీత గీసిన పదం ఏ సమాసమో రాయండి) 1 మా.
  22. కింది పదాలలో ద్విగు సమాస పదాన్ని గుర్తించి విడిగా రాయండి.  
అ) నాలుగు గీతలు ఆ) స్త్రీ పురుషులు  
ఇ) మానవ చరిత ఈ) చంపకవతి పట్టణం 1 మా.
  23. తుఫాను పంటపొలాలను నాశనం చేయడంతో రైతుల గుండెలు బరువెక్కాయి.  
ఈ వాక్యంలో జాతీయాన్ని గుర్తించి రాయండి. 2 మా.
  24. 'శ్రీరామరక్ష' ఈ జాతీయాన్ని ఉపయోగించి సొంతవాక్యాన్ని రాయండి. 2 మా.
  25. 'పురిటిలోనే సంధికొట్టడం' ఈ జాతీయం ఏ సందర్భంలో ఉపయోగిస్తారో రాయండి. 2 మా.
  26. ఇక నాకిక్కడ వసించడగదు  
(ఈ వాక్యానికి సరియైన అధునిక భాషాపరివర్తనమును గుర్తించి రాయండి.) 1 మా.  
అ) ఇచ్చేట వసించతగదు ఆ) ఇక నాకు వసించయుక్తం కాదు  
ఇ) ఇంక నేనిక్కడ నివసించడం మంచిది కాదు ఈ) ఇక్కడ వసించడం తగిన వాక్యం
  27. ప్రజలందరూ భౌతికదూరం పాటిస్తున్నారు.  
ఈ వాక్యానికి వ్యతిరేకార్థక వాక్యం రాయండి. 1 మా.
  28. కింది పదాలలో వ్యతిరేకార్థానిచ్చే క్రియను గుర్తించి రాయండి. 1 మా.  

చదివి, చదవక, చదువుతూ, చదివితే
  29. వాల్మీకి రామాయణం రచించెను.  
ఈ కర్తరి వాక్యాన్ని కర్మణి వాక్యంగా మార్చి రాయండి. 1 మా.
  30. జానపదుడు తన మిత్రునికి ఉత్తరం రాశాడు. ఈ వాక్యం కర్మణి వాక్యంగా మార్చినప్పుడు ఇలా ఉంటుంది.  
జానపదునిచే తన మిత్రునికి ఉత్తరం ..... ఖాళీ పూరించండి. 1 మా.
  31. "మీరు రావద్దు" ఇది ఏ రకమైన వాక్యమో రాయండి. 1 మా.
  32. "అహా ! ఈ సంగీతం ఎంత వీనులవిందుగా ఉంది."  
ఇది ఏ రకమైన వాక్యమో రాయండి. 1 మా.
  33. "మీకు శుభం కలుగుగాక" ఇది ఏ రకమైన వాక్యమో గుర్తించి విడిగా రాయండి.  
అ) చేదర్థకం ఆ) శత్రుర్థకం  
ఇ) విద్యుర్థకం ఈ) ఆశీర్వాదకం 1 మా.

**SSC PUBLIC EXAMINATIONS JULY - 2020**

**ENGLISH PAPER - MARKS DIVISION**

**(Paper I & II)**

**Time: 3 Hrs 15 Mins**

**Maximum Marks: 100**

**SECTION-A**

**(READING COMPREHENSION)**

**30 Marks**

Q.Nos.1-5	A. Reading (Paper-I)	2 Wh Questions + 3 MCQs	5x2= 10 Marks
Q.Nos.6-8	B. Reading (Poem) (Paper-I)	3 MCQs	3x2= 6 Marks
Q.Nos.9 & 10	B. Reading (Prose) (Paper-I)	2 MCQs	2x2= 4 Marks
Q.Nos.11-15	Study skills based on data (Paper-II)	2 Wh Questions+ 3 MCQs	5x2= 10M

**SECTION-B**

**(GRAMMAR & VOCABULARY)**

**40 Marks**

Q.No.16	Combine the sentences using Relative clause (Paper-I)	1x2= 2Marks
Q.No.17	Change the Voice (Paper-I)	1x2= 2 Marks
Q.No.18	Combine the sentences using linkers ( Paper-I)	1x2= 2 Marks
Q.No.19	Fill in the blanks with Prepositions (Paper-I)	2x1= 2 Marks
Q.No.20	Fill in the blanks with suitable verb forms (Paper-I)	2x1= 2 Marks
Q.No.21	Advice (Paper-I)	1x2= 2 Marks
Q.No.22	Change the following in to Polite request (Paper-I)	1x2= 2 Marks
Q.No.23	What do the following sentences mean? Choose the right answer (Paper-I)	2x1= 2 Marks
Q.No.24	Choose the right Synonyms(Paper-II)	4x1= 4Marks
Q.No.25	Match column A with the Antonym in Column B (Paper-II)	4x1= 4 Marks
Q.No.26	Fill in the blanks with right form of words (Paper-II)	4x1= 4 Marks
Q.No.27	Complete the following spellings with ea, ae, ia, ai, oo, ou etc., (Paper-II)	2x1= 2 marks
Q.No.28	Fill in the blanks with correct suffixes (Paper-II)	2x 1= 2 marks
Q.No.29	Find the wrongly spelt word and write the correct spelling (Paper-II)	2x 1= 2 marks
Q.No.30	Dictionary skills (Paper-II)	2x1= 2marks
Q.No.31	Arrange the following words under correct heading (Paper-II)	8x ¼ = 2marks
Q.No.32	One word substitutes (Paper-II)	4x ½ = 2 marks

**SECTION- C**

**(CREATIVE EXPRESSION)**

**30 Marks**

Q.No.33	a) Conversation	(OR)	b) Diary entry	Paper-I	10 marks
Q.No.34	a) Letter Writing	(OR)	b) Biographical sketch	Paper-II	10 Marks
Q.No.35	a) Framing 'WH' questions (OR) b) Information Transfer			Paper-I &II	10 Marks

**ACADEMIC STANDARD WISE MARKS DIVISION**

Section	Content	Marks allotted
Section A	Reading Comprehension	30 Marks
Section B	Grammar and Vocabulary	40 Marks
Section C	Creative Expression	30 Marks
Total:		<b>100 Marks</b>

  
 15/05/2020  
**DIRECTOR**  
 of Government Examinations,  
 Andhra Pradesh, VIJAYAWADA.

# SSC PUBLIC EXAMINATIONS : JULY-2020

## MODEL PAPER

### Third Language - ENGLISH - PAPER-I & II

Class: X

Max. Marks: 100

Time: 3.15 Hrs.

#### INSTRUCTIONS :

1. This question paper has 35 questions in three sections (A, B and C)
2. Answer all the questions on a separate answer book supplied to you.
3. 15 minutes of time is allotted exclusively for reading the question paper and 3.00 hours for writing the answers.
4. Answer all the questions of section-B (Grammar & Vocabulary) in the same order at one place in your answer book.

#### SECTION-A : READING COMPREHENSION

##### Questions (1-5) : Read the following passage carefully.

His parents decided not to send him to a special school-a decision he said was very hard for him, but which may have been the best decision they could have made for him.

When Nick was born his father was so shocked that he left the hospital room to vomit. His distraught mother couldn't bring herself to hold him until he was four months old.

His disability came without any medical explanation - a rare occurrence called phocomelia - and Nick and his parents spent many years asking why this cruel trick would happen to them. 'My mother was a nurse and she did everything right during pregnancy but she still blamed herself,' he said.

*(Attitude is Altitude)*

Now answer the following questions :

5 × 2 = 10 M

1. Why did Nick's parents decide not to send him to special school ?
2. What did his father do when Nick was born ?
3. Nick's mother blamed herself for .....  
A) not doing good things  
B) not predicting phocomelia  
C) not doing right during pregnancy.
4. Nick's mother couldn't hold her son until he was four months old as .....  
A) She was in bed for four months.  
B) Nick was on ventilator for four months.  
C) She could not digest giving birth to a torso.

5. According to Nick and his parents 'cruel trick' in the passage literally means ...  
A) Helplessness of his parents in assisting him.  
B) Nick's birth with disability.  
C) Decision of Nick's parents not to send him to a special school.

##### Questions (6-8) : Read the following stanza carefully.

Once upon a time, son,  
they used to laugh with their hearts  
and laugh with their eyes;  
but now they only laugh with their teeth,  
while their ice-block-cold eyes  
search behind my shadow.

*(Once upon a Time)*

Choose the correct answers to the following questions

3 × 2 = 6 M

6. In these lines the poet is talking about .....  
A) the honest and innocent world of children.  
B) the insincere world of adults.  
C) the differences between the past and the present.
7. The expression 'Ice-cold-block eyes' means .....  
A) a dead man's eyes  
B) expressionless eyes  
C) The eyes are wet with tears.
8. This stanza is a conversation between .....  
A) a father and his son.  
B) a person and his neighbour.  
C) two childhood friends.

##### Questions (9-10): Read the following passage carefully.

It is a tribute to Telugu culture, language and customs for the land. The film was watched repeatedly soon after its release because people identified every character of the film with someone they knew in their immediate vicinity and the audience still do the same now.

Now, answer the following questions.

2 × 2 = 4 M

9. What is a tribute to Telugu culture, language and customs for the land ?  
A) The characters  
B) The audience  
C) Maya Bazaar
10. What do the audience do while watching Maya Bazaar ?  
A) Start singing songs  
B) Pay tribute to the film  
C) Relate every character to someone they knew in their immediate vicinity.

Questions (11-15): Read the following table.

Marks scored by three students in the various subjects in the Annual Examinations.

Name of the Student	Telugu	Hindi	English	Maths	General Science	Social Studies	Total
Raziya	80	75	90	90	72	73	480
Jyothi	80	70	90	100	75	96	511
Bindu	70	90	75	95	80	96	506

Now, answer the following questions.

5 × 2 = 10 M

- What does the table show ?
- Who scored equal marks in two subjects ?
- The highest marks in Maths is scored by .....  
A) Raziya B) Bindu C) Jyothi
- The highest total is scored by .....  
A) Bindu B) Raziya C) Jyothi
- Choose the TRUE statement among the following.  
A) There is a difference of 25 marks in Hindi between Raziya and Bindu.  
B) Bindu secured highest marks in Maths.  
C) Jyothi got 73 marks in social studies.

## SECTION-B : GRAMMAR & VOCABULARY

Note : Answer all the questions of Section-B (Grammar & Vocabulary) in the same order at one place in your answer book.

- Combine the following sentences using 'Who'. 2 M  
Abel wanted to leave the house. He was the grandpa of Victoria.
- Change the following sentences into passive voice. 2 M  
I gave him the can of wine.
- Combine the following sentence using 'as'. 2 M  
The roads were not good. He preferred less luggage.
- Fill in the blanks with suitable prepositions given in the brackets. 2 × 1 = 2 M  
a) She was unable to attend the party \_\_\_\_\_ (inspite of / in addition to / due to ) heavy rains.  
b) Sindhu is dedicated \_\_\_\_\_ (to / in / with) her job.
- Fill in the blanks with suitable forms of verbs given in the brackets. 2 × 1 = 2 M  
After I \_\_\_\_\_ (finish) my home work, I \_\_\_\_\_ (go) to bed.
- Your mother is not turning gas cylinder off after cooking. Advise her to turn off the gas cylinder after cooking. 2 M

- Change the following into a polite request. 2 M  
You to a co-passenger in a train : "Don't stand at the door"

- What do the following sentences mean ?

Choose the right answer and write it in your answer book.

2 × 1 = 2 M

i) Hist ! Listen.

- A) Expressing annoyance B) Attracting attention  
C) Expressing surprise D) Expressing hesitation

ii) Will you join us for tea ?

- A) Suggestion B) Offer  
C) Question D) Order

- Read the following paragraph and write the synonyms of the underlined words choosing from the words given in the box. 4 × 1 = 4 M

prevent, objected, permit, encourage, forbid, trunk

I protested. (a) How could I allow (b) my old father to carry my trunk ? What would people think ? What would they say ? But I failed to dissuade (c) him. It was decided that father would carry the chest (d).

- Read the paragraph and match the words under 'A' with their antonyms under 'B'. 4 × 1 = 4 M

So good management of the natural (a) resources, equitable (b) distribution of the resources is important (c) for peace (d)

'A'

'B'

- |               |     |                |
|---------------|-----|----------------|
| a) natural    | ( ) | 1. unimportant |
| b) equitable  | ( ) | 2. artificial  |
| c) importance | ( ) | 3. inequitable |
| d) important  | ( ) | 4. fair        |
| e) peace      | ( ) | 5. war         |
|               |     | 6. calmness    |

- Fill in the blanks with right form of the words given in brackets. 4 × 1 = 4 M

"If I fail, I try again, and again, and again. If you fail, are you going to try again ? The \_\_\_\_\_ (a) (human / humanity / humanly) spirit can \_\_\_\_\_ (b) (handle / handled / handling) much worse than we \_\_\_\_\_ (c) (realize / realization / realizing). If matters how you are going to finish. Are you going to finish \_\_\_\_\_ ? (d) (strongly / strong / strength)

- Complete the following spellings with "ou, ea, oa, ei, ee, oo". 2 × 1 = 2 M

They are coming to talk over p \_ \_ r (a) grandpa's affairs. Your father sent them a telegram as soon as we found he was d \_ \_ d. (b)

28. Complete the words with correct suffixes given in brackets.  $2 \times 1 = 2 \text{ M}$   
 Roberge does not endorse the accusa \_\_\_\_\_ (tion / sion) of Ray's detractors that the master direct \_\_\_\_\_ (er / or) made his reputation selling India's poverty to the West.
29. Find the wrongly spelt word and write the correct spelling.  $2 \times 1 = 2 \text{ M}$   
 a) insted programmer encourage perseverance  
 b) complacent bureu malicious lethargy
30. Read the following entry of the word given below.  $2 \times 1 = 2 \text{ M}$   
**leth.argy** / 'leθədʒi; NAmE 'leθədʒi / noun [U] te state of not having any energy of enthusiasm for doing things **SYN** listlessness, inertia **leth.ar.gic** / le'θədʒɪk; NAmE - 'θɑːrdʒ-/ adj. : *The weather made her lethargic.*  
 a) What is the part of the speech of the word 'lethargy' ?  
 b) Write the synonym of lethargy ?
31. Arrange the following words under the correct heading.  $8 \times \frac{1}{4} = 2 \text{ M}$   
 bye bye, dilly dally, chit chat, tata, ping pong, papa, ha ha, tick tock.

Duplicative words	Alliterative words

32. Match the following one word substitutes in 'Part-A' with their meanings in 'Part-B'. (Write only the numbers and their corresponding letters in your answer book.)  $4 \times \frac{1}{2} = 2 \text{ M}$

**Part-A**

**Part-B**

- |               |     |  |
|---------------|-----|--|
| 1. manuscript | ( ) | A) one who can do anything for money.    |
| 2. publisher  | ( ) | B) a handwritten document.               |
| 3. teetotaler | ( ) | C) a person who brings out books.        |
| 4. theist     | ( ) | D) one who abstains from taking alcohol. |
|               |     | E) one who believes in God.              |
|               |     | F) one who hates women.                  |

**SECTION - C (CREATIVE EXPRESSION)**

**Q. No.33.**

**5 M**

- (a) In the lesson 'My Childhood', Kalam and his friend Ramanatha Sastry went home after school and told their respective parents about the incident that happened in the class. Ramanatha Sastry's father, Lakshmana Sastry summoned the teacher and told him not to spread the poison of social inequality in the minds of innocent children. Now, write a possible conversation between Lakshmana Sastry and the new teacher. **10 M**

(OR)

- (b) In the lesson, 'What is my name', the housewife felt like a person, when her friend Pramila embraced her calling 'Sarada'. She was delighted to know her name the thanked Pramila. She returned home in a joyful mood taking the pride of being a complete woman.  
**Imagine you are Sarada and write a diary entry expressing your happiness.**

**34. 5 M**

- (a) The Government has proposed an 'Educational tour' for class IX & X in the month of November. It has allotted Rs. 200/- per head. Your school decided to take the students of classes IX and X with necessary equipment and arrangements.  
**Write a letter to your friend about the place you visited and the time you spent with classmates and teachers.**

(OR)

- (b) **Write a Bio-grapical sketch of Anita Desai, a famous novelist and writer of childrens' stories.**

Born	: 24 June 1937 (82 years), Mussorie
Education	: Miranda House, University of Delhi
Spouse	: Ashvin Desai (m.1958)
Children	: Kiran Desai
Film	: In Custody (novel)
Awards	: Sahitya Academy Award (1978), shortlisted for Booker Prize (1980), (1984), (1999) Padma Bhushan (2014)
Works	: The Zigzag Way, In Custody, The Village by the Sea, Games at Twilight, Fire on the Mountain etc.

- 35. a) Read the following passage carefully focussing on the underlined parts.**

Savitri (A) was adored for the matchless ease in expression. Meenakumari, the heroine of Hindi films said, "when I watch Savitri's acting. I usually get doubts about my own action." (B). Her strikingly expressive (C) eyes and her superb sense of timing made her one of the greatest actresses. Maya Bazaar (D) is another film that brought fame to Savitri. She played the role of Sasirekha (E).

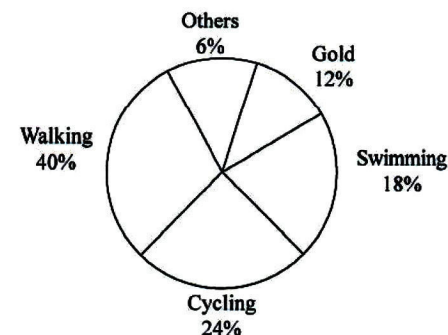
**Now frame 'Wh' questions to get the underlined parts as answers.**

**5 M**

(OR)

- b) Study the following pie-chart and write a paragraph describing the information in it.**

**ABC International School,  
Favourite Activities**



**Answers to the model paper issued by SCERT.**

1. Nick's parents decided not send him to a special school because they want him to bring courage in him and to make him independent.
2. Nick's father was so shocked that he left the hospital room to vomit.
3. (B) not predicting phocomelia.
4. (C) She could not digest giving birth to torso.
5. (B) Nick's birth with disability and the present.
6. (C) the differences between the past and the present.
7. (B) expressionless eyes.  
(C) Maya Bazaar
8. (A) a father and his son.
- 9.
10. (C) Relate every character to someone they knew in their immediate vicinity.
11. The table shows the Marks scored by three students in the various subjects in the Annual Examinations.  
equal marks in two subjects.
12. Raziya and Jyothi scored equal marks in two subjects.
13. (C) Jyothi
14. (C) Jyothi
15. all statements are wrong.
16. Abel who was the grandpa of Victoria wanted to leave the house.
17. The can of wine was given to him by me. (OR) He was given the can of wine by me.
18. As the roads were not good, he preferred less luggage.
19. a) due to b) to
20. had finished, went
21. You should turn off the gas cylinder after cooking.
22. Could you please stand away from the door?
23. i) B ii) B  
(d) trunk
24. (a) objected (b) permit (c) prevent
25. (a) 2.artificial (b) 3.inequitable (c) 1.unimportant (d) 5.war

26. (a) human (b) handle (c) realize (d) strong 27. (a) oo (b) ea 28. (a) tion (b) or

29. (a) instead (b) bureau

30. (a) Noun (b) listlessness, inertia

31. Duplicative words : bye bye, tata, papa, haha

Alliterative words : dilly dally, chit chat, ping pong, tick tock

33. 1. B 2.C 3. D 4. E

34 (b). This is the Biographical Sketch of Anita Desai. She is a famous novelist and writer of children stories. She was born on 24th June 1937 at Mussorie. Now she is 82 years old. She studied at Miranda House, University of Delhi. She married Asvin Desai in the year 1958. They were blessed with a child, Kiran Desai. Her novel In custody is the base for the film In Custody. She won Sahitya Academy Award in 1978. She was shortlisted for Booker Prize in 1985, 1984 and 1999. She was awarded the great honour of India Padma Bhushan in 2014. She wrote many novels and stories. Some of her works are The Zigzag, Way, In Custody, The Village by the sea, Games at Twilight, Fire on the Mountain etc.

35. (A) Who was adored for the matchless ease in expression?

(B) What did Meenakumari, the heroine of Hindi films say ?

(OR) What did Meenakumari, the heroine of Hindi films say about Savitri?

(C) How were her eyes?

(D) Which film brought fame to Savitri?

(E) Which role did she play in Maya Bazaar ?  
she play?

(OR) Which role did she play?

35(b). This Pie chart depicts the favourite activities of ABC international school students. Mainly Five activities are described in this Pie chart. They are walking, cycling, swimming, Golf and other activities. Walking is favourite activity for 40% of students. Cycling is favourite activity for 24% of students. Swimming is favourite activity for 18% of students. Golf is favourite activity for 12% of students. The other activities are favourite for 6% of students.

सूचनाएँ :- 1) प्रश्न पत्र पढ़ने के लिए 15 मिनट का समय निर्धारित है।

2) सभी प्रश्नों के उत्तर उत्तर पुस्तिका में लिखिए।

3) प्रश्न पत्र में छः भाग हैं।

### भाग-I

I. निम्नलिखित प्रश्नों के उत्तर सूचना के अनुसार लिखिए। 12 x 1 = 12

1. पायो जी में तो राम रतन धन पायो। ( रेखांकित शब्द का तत्सम रूप पहचानिए )

रत्न	रटन	रतण
------	-----	-----

2. हिंदी की उपयोगिता आजकल बढ़ती जा रही है। (क्रिया विशेषण शब्द पहचानकर लिखिए।)

3. 1663 - अक्षरों में लिखिए।

4. दादी तवे \_\_\_\_\_ रोटियाँ उतारती है। (सही कारक चिह्न पहचानिए )

को	से	में
----	----	-----

5. नर समाज का भाग्य श्रम और भुजबल है। (वाक्य के आधार पर समास पहचानिए।)

i) नर समाज - द्वंद समास

ii) भुजबल - तत्पुरुष समास

6. पेड़-पौधों से पर्यावरण संतुलित होता है। (रेखांकित शब्द का संधि विच्छेद कीजिए।)

7. जो अंतरिक्ष में यात्रा करते हैं। (एक शब्द में लिखिए।)

8. लक्ष्मीबाई स्वराज्य की नींव का पत्थर बनना चाहती है। (रेखांकित मुहावरे का अर्थ क्या है?)

निर्माण करना	बुनियाद डालना	आंदोलन करना
--------------	---------------	-------------

9. नौकर सामान लाता है। (लिंग बदलकर फिर से पूरा वाक्य लिखिए।)

10. लड़का घर जाता है। (वचन बदलकर फिर से पूरा वाक्य लिखिए।)

11. सीता गाना गाती है। (वाक्य को भविष्यत काल में बदलकर लिखिए।)

12. मेरे को आम चाहिए। (शुद्ध रूप में लिखिए।)

### भाग : II

II. प्रश्न संख्या 13 से 16 तक दिये गये गद्यांश, पद्यांश पढ़कर निर्देश के अनुसार उत्तर दीजिए।

13. निम्नलिखित गद्यांश पढ़कर उत्तर अनुच्छेद में पहचान कर लिखिए। 5 x 1 = 5

भारतीय स्वतंत्रता संग्राम में देश को एकता के सूत्र में बाँधने के लिए एक भाषा की आवश्यकता हुई। यह काम हिंदी से ही साध्य हो सका। आज हमें एक से अधिक भाषाएँ सीखना जरूरी है। जिनमें हिंदी और अंग्रेजी का स्थान महत्वपूर्ण है। हिंदी से हम सारे भारत की पहचान अच्छी तरह से कर सकते हैं।

अ) "अनेकता" - शब्द का विलोम शब्द पहचान कर लिखिए।

आ) उनमें हिंदी का स्थान महत्वपूर्ण है। (इस वाक्य में विशेषण शब्द क्या है?)

इ) "ईय" - प्रत्यय से जुड़ा हुआ शब्द पहचान कर लिखिए।

ई). "आजादी" - शब्द का पर्यायवाची शब्द पहचान कर लिखिए।

उ). आज हमें एक से अधिक भाषाएँ सीखना जरूरी है। (सर्वनाम शब्द पहचानिए)

14. निम्नलिखित पद्यांश पढ़कर दिये गये प्रश्नों के उत्तर एक वाक्य में लिखिए। 5 x 1 = 5

उलझन में उलझे लोगों को, तथ्य दीप समझायेंगे।  
भटक रहे जो जीवन पथ से, उनको राह दिखायेंगे।  
हम खुशियों के दीप जला, जीवन ज्योत जलायेंगे।  
हम भारतवासी दुनिया को, पावन धाम बनायेंगे।

अ) भारतवासी किसको तथ्य दीप समझायेंगे ? [ ]

A) गरीबों को B) उलझे लोगों को C) अमीरों को D) चोरों को

आ) जीवन पथ से भटकने वालों को क्या दिखाना चाहिए ? [ ]

A) प्रकाश B) रोशन C) चमक D) राह

इ) भारतवासी दुनियाँ को क्या बनाना चाहते हैं ? [ ]

A) पावनधाम B) धनधाम C) धान्यधाम D) स्वर्गधाम

ई) "पावन" शब्द का अर्थ क्या है ? [ ]

A) पवित्र B) स्वतंत्र C) हवा D) सूरज

उ) यह पद्यांश किस पाठ से दिया गया है ? [ ]

A) बरसते बादल B) कण-कण अधिकारी C) हम भारतवासी D) नीतिदोहे

15. निम्नलिखित गद्यांश पढ़कर दिये गये प्रश्नों के उत्तर एक वाक्य में लिखिए। 5 X 1 = 5

वास्तविक लोकगीत देश के गाँवों और देहातों में हैं। इनका संबंध देहात की जनता से है। बड़ी जान होती है इनमें। बाउल और भतियाली बंगाल के लोकगीत हैं। पंजाब में माहिया आदि इसी प्रकार के हैं। हीरा रांझा, सोहनी महीवाल संबंधी गीत पंजाबी में और ढोलामारू आदि गीत राजस्थानी में बड़े चाव से गाये जाते हैं।

अ) वास्तविक लोकगीतों का संबंध किसके साथ है?

आ) राजस्थानी में कौन से लोकगीत गाये जाते हैं ?

इ) बड़ी जान किसमें होती है ?

ई) बाउल और भतियाली किस प्रांत के लोकगीत हैं ?

उ) इस गद्यांश के लेखक कौन है ?

16. निम्नलिखित गद्यांश को पढ़कर दिये गये प्रश्नों के उत्तर विकल्पों में से चुनकर लिखिए।

5×1 = 5

टेसी थॉमस की शिक्षा-दीक्षा केरल स्थित अलप्पुझा में हुई। यहीं पर उनका जन्म हुआ था। रक्षा अनुसंधान और विज्ञान को पुरुषों का क्षेत्र माना जाता था। मगर टेसी थॉमस ने अपनी मेहनत, लगन और दृढ़-निश्चय से पुरुष वर्चस्व वाले क्षेत्र में सफलता के नये शिखर तय किये हैं। थॉमस रक्षा अनुसंधान और विकास संगठन (D.R.D.O) के अग्नि-5 कार्यक्रम की निदेशक बनीं।

अ) टेसी थॉमस का जन्म यहाँ हुआ ? [ ]

A) आंध्र प्रदेश B) केरल C) तमिलनाडु D) कर्नाटक

आ) टेसी थॉमस किस कार्यक्रम के निदेशक बनीं ? [ ]

A) अग्नि-5 B) डी.आर.डी.ओ C) अग्नि-2 D) अग्नि-4

इ) यह क्षेत्र पुरुषों का क्षेत्र माना जाता है ? [ ]

A) अर्थशास्त्र B) इंजिनियरिंग C) रक्षा अनुसंधान और विज्ञान D) देश की सुरक्षा

ई) 'जन्म' - शब्द का विलोम शब्द क्या है ? [ ]

A) जीवन B) चरण C) तोरण D) मृत्यु

उ) 'धरती के सवाल-अंतरिक्ष के जवाब' कैसा पाठ है ? [ ]

A) कहानी B) जीवनी C) साक्षात्कार D) निबंध

### भाग - III

III) प्रत्येक प्रश्न का उत्तर 6 पंक्तियों में लिखिए। 2 × 4 = 8

17. रहीम के बारे में आप क्या जानते हैं?

18. 'स्वराज्य की नींव' पाठ के लेखक श्री विष्णु प्रभाकर जी का जीवन परिचय दीजिए?

### भाग - IV

IV. निम्नलिखित प्रश्नों के उत्तर तीन या चार वाक्यों में लिखिए। 8 × 3 = 24

19. विश्व बंधुत्व की भावना को बढ़ाने में भारतवासियों की क्या भूमिका है?

20. नर समाज का भाग्य क्या है? अपने शब्दों में लिखिए।

21. लोकगीत किन अवसरों पर गाये जाते हैं ?

22. कलाम जी के अनुसार आदर्श छात्र के गुण क्या हैं ?

23. बाबा गंगादास जी ने स्वराज्य की नींव के बारे में क्या कहा ?

24. शांति की परिभाषा क्या हो सकती है? अपने शब्दों में लिखिए ?

25. अरुणा की ममता पर अपने विचार व्यक्त कीजिए ?

26. अकाल की समस्या के निवारण के लिए राजा ने क्या-क्या उपाय सोचे होंगे ?

### भाग - V

V. निम्नलिखित निबंधात्मक प्रश्नों के उत्तर सूचना के अनुसार लिखिए।

27) किसी एक प्रश्न का उत्तर 15 पंक्तियों में लिखिए। 1 × 10 = 10

अ) वर्षा के समय प्रकृति की शोभा दर्शनीय होती है। 'बरसते बादल' कविता के आधार पर स्पष्ट कीजिए ?

(या)

आ) रैदास की भक्ति भावना का वर्णन कीजिए?

28) किसी एक प्रश्न का उत्तर 15 पंक्तियों में लिखिए। 1 × 10 = 10

अ) ईदगाह पाठ के आधार पर हामिद की भावनाओं को स्पष्ट कीजिए?

(या)

आ) लेखक ने अपनी यात्रा वृत्तांत में गोदावरी नदी की कौन सी विशेषताएँ बतायीं ?

## **भाग - VI**

**VI. निम्नलिखित प्रश्नों के उत्तर सूचना के अनुसार लिखिए।**

**29) किसी एक प्रश्न का उत्तर लिखिए।**

**1 × 8 = 8**

अ) विहार यात्रा का वर्णन करते हुए मित्र के नाम पत्र लिखिए।

(या)

आ) आवश्यक पुस्तकें माँगते हुए पुस्तक विक्रेता के नाम पत्र लिखिए।

**30) किसी एक प्रश्न का उत्तर लिखिए।**

**1 × 8 = 8**

अ) जल हमारे जीवन का आधार है। 'जल संरक्षण' का महत्व समझाते हुए निबंध लिखिए।

(या)

आ) भारत में अनेक देशभक्तों तथा राजनीतिज्ञों का जन्म हुआ। उनमें से अपने 'प्रिय नेता' के बारे में निबंध लिखिए।

**SSC PUBLIC EXAMINATIONS JULY - 2020**  
**MATHEMATICS PAPER - MARKS DIVISION**  
**( Paper I & II )**

**Time: 3 Hrs 15 Mins.**

**Maximum Marks: 100**

**SECTION-I**  
**(OBJECTIVE ANSWER QUESTIONS)**

**12x1= 12 Marks**

Q.Nos.1-6	Paper-I	6 Marks
Q.Nos.7-12	Paper-II	6 Marks

**SECTION-II**  
**( VERY SHORT ANSWER QUESTIONS)**

**8x2= 16 Marks**

Q.Nos.13-16	Paper-I	8 Marks
Q.Nos.17-20	Paper-II	8 Marks

**SECTION- III**  
**(SHORT ANSWER QUESTIONS)**

**8x2= 32 Marks**

Q.Nos.21-24	Paper-I	16 Marks
Q.Nos.25-28	Paper-II	16 Marks

**SECTION- IV**  
**(ESSAY ANSWER QUESTIONS)**


**Note: There is an internal choice for each question**

**5x8= 40 Marks**

Q.Nos.29-30	Paper-I	16 Marks
Q.Nos.31-32	Paper-II	16 Marks
Q.No.33	Paper-I and II	8 Marks

**SECTION WISE MARKS DIVISION**

Section	Question Category	Marks allotted
Section I	Objective Answer Questions	12Marks
Section II	Very Short Answer Questions	16 Marks
Section III	Short Answer Question	32 Marks
Section IV	Essay Answer Questions	40 Marks
Total:		<b>100 Marks</b>

  
15/05/2020  
**DIRECTOR**  
of Government Examinations,  
Andhra Pradesh, VJAYAWADA

**SSC PUBLIC EXAMINATIONS : JULY-2020**  
**MATHEMATICS - PAPER - I & II**  
**MODEL PAPER**  
**(Telugu Medium)**

Time: 3 Hrs. 15 Min.

Max. Marks : 100 Marks

**Instructions:**

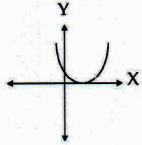
1. అన్ని ప్రశ్నలకు సమాధానములు ప్రత్యేక బుక్‌లెట్‌లో మాత్రమే రాయాలి.
2. ప్రశ్నాపత్రంలో నాలుగు విభాగాలు మరియు 33 ప్రశ్నలు ఉండును.
3. విభాగం-IV లో అంతర్గత ఎంపిక కలదు.
4. సమాధానములు స్పష్టంగా రాయాలి.

**SECTION – I**

- సూచనలు: 1. క్రింది ఇవ్వబడిన అన్ని ప్రశ్నలకు ఒక పదం లేదా మాటలో జవాబులు రాయండి.  
 2. ప్రతి ప్రశ్నకు 1 మార్కు.  
 3. ఏదైన ప్రశ్నకు జవాబు ఒకటి కంటే ఎక్కువసార్లు రాసినచో, మొదటిసారి రాసిన జవాబును మాత్రమే పరిగణనలోనికి తీసుకొనబడును.

**12 × 1 = 12**

1. శూన్యసమితికి గల ఉపసమితులు సంఖ్య  
 A) 0 B) 1 C) 2 D) 3
2. కింది రేఖాచిత్రములోని బహుపది శూన్యాల సంఖ్య .....



3.  $\log 10, \log 100, \log 1000, \dots$  లు \_\_\_\_\_ శ్రేణిలో ఉన్నవి.
4.  $2x + 3y = 13$  సమీకరణ సాధన  $x = 2$  అయిన  $y = \dots$
5.  $\sqrt{2}, \sqrt{8}, \sqrt{32}, \dots$  G.P యొక్క సామాన్య నిష్పత్తిని కనుగొనుము.
6. కింది ప్రవచనాలను తృప్తిపరచు జవాబును ఎన్నుకొనుము.

ప్రవచనం (A) :  $2x^3 + 3\sqrt{x} - 5$  ఒక బహుపది కాదు.

ప్రవచనం (B) :  $2x - 3$  బహుపది శూన్యవిలువ  $\frac{3}{2}$

- (i) A మరియు B రెండూ సత్యము (ii) A సత్యము, B అసత్యము
- (iii) A అసత్యము, B సత్యము (iv) A మరియు B రెండూ అసత్యము
7.  $x = 3$  రేఖ యొక్క వాలు  
 A)  $\sin 0^\circ$  B)  $\cos 90^\circ$   
 C)  $\tan 90^\circ$  D)  $\tan 0^\circ$

8. 7 సెం.మీ. వ్యాసార్థము కలిగిన అర్ధవృత్త వైశాల్యముకనుగొనుము.
9. కింది వాటిని జతపరుచుము.

A)  $\sin \theta$  ( ) (i)  $\frac{1}{\sec \theta}$

B)  $\cos \theta$  ( ) (ii)  $\frac{\sin \theta}{\cos \theta}$

C)  $\tan \theta$  ( ) (iii)  $\frac{1}{\operatorname{cosec} \theta}$

- a) A-(i), B-(ii), C-(iii) b) A-(ii), B-(iii), C-(i)  
 c) A-(iii), B-(i), C-(ii) d) A-(ii), B-(i), C-(iii)

10. ఒక పేకముక్కుల కట్ట నుండి జాకీని ఎన్నుకొను సంభావ్యత ఎంత ?
11.  $x + 3, x, x - 3$  ల సగటు \_\_\_\_\_.
12.  $Q_1$  పాదంలో ఉండు బిందువు \_\_\_\_\_

- A) (3, -2) B) (-3, 5)  
 C) ((7, 1) D) (-6, -3)

**SECTION – II**

- సూచనలు: 1. అన్ని ప్రశ్నలకు సమాధానములు రాయుము.

2. ప్రతి ప్రశ్నకు 2 మార్కులు.

**8 × 2 = 16**

13.  $\log 1000 = 3 \log 2 + 3 \log 5$  అని చూపండి.
14.  $x = y$  కు రేఖాచిత్రము గీయండి. (చిత్తుపటం)
15.  $x^2 + 4x + 5 = 0$  వర్గసమీకరణం మూలాలు కనుగొనుము.
16. 2.1 సెం.మీ. వ్యాసార్థము గల గోళము ఘనపరిమాణం కనుగొనుము.
17.  $\triangle ABC$  లో  $BC \parallel DE$  మరియు  $\frac{AD}{DB} = \frac{3}{5}, AC = 5.6$  సెం.మీ. అయిన  $\overline{AE}$  ను కనుగొనుము.
18.  $\frac{2 \tan 30^\circ}{1 + \tan^2 30^\circ}$  విలువలను కనుగొనుము.
19. మూడు నాణెములను ఒకేసారి ఎగురవేసినపుడు మొత్తం సాధ్యపర్యవసానములను రాయండి.
20. వర్గీకృత దత్తాంశమునకు మధ్యగతము కనుగొను సూత్రమును రాసి, అందు పదాలను వివరించండి.

**SECTION – III**

- సూచనలు: 1. అన్ని ప్రశ్నలకు సమాధానములు రాయుము.

2. ప్రతి ప్రశ్నకు 4 మార్కులు.

**8 × 4 = 32**

21.  $A = \{x : x \text{ ఒక సరి సహజసంఖ్య మరియు } 10 \text{ కంటే చిన్నది}\}$   
 $B = \{x : x \in N \text{ మరియు } 4 < x < 10\}$  అయిన వెన్ చిత్రము ద్వారా  
 (i)  $A \cup B$  (ii)  $A \cap B$  లను కనుగొనుము.

**SSC PUBLIC EXAMINATIONS : JULY-2020**  
**MATHEMATICS - PAPER - I & II**  
**MODEL PAPER**  
**(English Medium)**

Time: 3 Hrs. 15 Min.

Max. Marks : 100 Marks

**Instructions:**

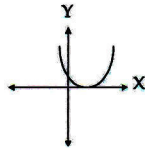
1. Answer ALL the questions in a separate answer Booklet.
2. The question paper consists of 4 Sections and 33 questions.
3. There is an internal choice in Section-IV.
4. Write answers neatly and legibly.

**SECTION – I**

- Note:** 1. Answer ALL the questions in ONE WORD or PHRASE.  
 2. Each Question carries 1 Mark.  
 3. If any question is answered more than once, the first answer only will be considered.

$$12 \times 1 = 12$$

1. The No. of subsets of an empty set is  
 A) 0                      B) 1                      C) 2                      D) 3
2. The No. of zeroes of the following graph of the polynomial is .....



3.  $\log 10, \log 100, \log 1000, \dots$  are in \_\_\_\_\_ progression.
4. If  $x = 2$  is a solution of  $2x + 3y = 13$  then  $y = \dots$
5. Find the common ratio of G.P.  $\sqrt{2}, \sqrt{8}, \sqrt{32}, \dots$
6. Choose the correct answer satisfying the following statements.

**Statement (A) :**  $2x^3 + 3\sqrt{x} - 5$  is not a polynomial.

**Statement (B) :** Zero of the polynomial  $2x - 3$  is  $\frac{3}{2}$

- |                             |                              |
|-----------------------------|------------------------------|
| (i) Both A and B are true   | (ii) A is true, B is false.  |
| (iii) A is false, B is true | (iv) Both A and B are false. |
7. Slope of the line  $x = 3$  is  
 A)  $\sin 0^\circ$                       B)  $\cos 90^\circ$   
 C)  $\tan 90^\circ$                       D)  $\tan 0^\circ$

8. Find the area of semi circle whose radius is 7 cm.
9. Match the following.

- |                  |     |  |
|------------------|-----|--|
| A) $\sin \theta$ | ( ) | (i) $\frac{1}{\sec \theta}$            |
| B) $\cos \theta$ | ( ) | (ii) $\frac{\sin \theta}{\cos \theta}$ |
| C) $\tan \theta$ | ( ) | (iii) $\frac{1}{\csc \theta}$          |
- a) A-(i), B-(ii), C-(iii)                      b) A-(ii), B-(iii), C-(i)  
 c) A-(iii), B-(i), C-(ii)                      d) A-(ii), B-(i), C-(iii)
10. What is the probability to pick a jack card from a deck of cards.
  11. The mean of  $x + 3, x, x - 3$  is \_\_\_\_\_.
  12. The point lies in  $Q_1$  is  
 A) (3, -2)                      B) (-3, 5)  
 C) ((7, 1)                      D) (-6, -3)

**SECTION – II**

- Note:** 1. Answer all the Questions.

2. Each Question carries 2 Marks.

$$8 \times 2 = 16$$

13. Show that  $\log 1000 = 3 \log 2 + 3 \log 5$ .
14. Draw the rough graph for  $x = y$ .
15. Find the roots of the quadratic equation  $x^2 + 4x + 5 = 0$ .
16. Find the volume of a sphere of radius 2.1 cm.
17. In  $\triangle ABC$ ,  $BC \parallel DE$  and  $\frac{AD}{DB} = \frac{3}{5}$ ,  $AC = 5.6$  cm, then find the value of AE.
18. Find the value of  $\frac{2 \tan 30^\circ}{1 + \tan^2 30^\circ}$ .
19. Write all the possible outcomes when three coins are tossed at a time.
20. Write the formula to find the Median of grouped data and explain the terms in it.

**SECTION – III**

- Note:** 1. Answer all the Questions.

2. Each Question carries 4 Marks.

$$8 \times 4 = 32$$

21. If  $A = \{x : x \text{ is an even natural number less than } 10\}$   
 $B = \{x : x \in \mathbb{N} \text{ and } 4 < x < 10\}$  then find  
 (i)  $A \cup B$                       (ii)  $A \cap B$  by using Venn diagram.

22.  $a_n = 3 + 4n$  గా నిర్వచించబడితే  $a_1, a_2, a_3, \dots, a_n$  ఒక అంకశ్రేణి అవుతుందని చూపండి మరియు మొదటి 15 పదాల మొత్తమును కనుగొనుము.

23. ఈ కింది సమితులను సమితి నిర్మాణరూపంలో రాయండి.

- (i)  $A = \{3, 6, 9, 12\}$  (ii)  $B = \{2, 4, 8, 16, 32\}$   
(iii)  $C = \{5, 25, 125, 625\}$  (iv)  $D = \{1, 4, 9, 25, \dots, 100\}$ .

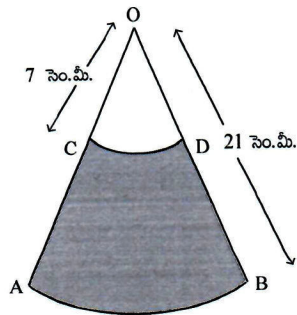
24. 5, 25, 125, ..... గుణశ్రేణి యొక్క 10వ, nవ పదాలను కనుగొనుము.

25.  $(\sin 45^\circ, \tan 30^\circ)$ ,  $(\cos 45^\circ, \cot 60^\circ)$  బిందువులను కలుపు రేఖాఖండము యొక్క మధ్యబిందువు నిరూపకాలు కనుగొనుము.

26. రెండు ఏకకేంద్ర వృత్తాలలో, 24 సెం.మీ. పొడవు గల బాహ్యవృత్తము యొక్క జ్యా, 5 సెం.మీ. వ్యాసార్థము కలిగిన అంతర వృత్తానికి స్పర్శరేఖ అయిన బాహ్యవృత్తము యొక్క వ్యాసార్థమును కనుగొనుము.

27.  $A(a, 0)$ ,  $B(-a, 0)$ ,  $C(0, a\sqrt{3})$  బిందువులు సమబాహు త్రిభుజ శీర్షాలు అవుతాయని చూపండి.

28. 'O' కేంద్రముగా గల రెండు ఏకకేంద్ర వృత్తాల వ్యాసార్థాలు 21 సెం.మీ. 7 సెం.మీ. మరియు AB, CD లు వరుసగా రెండు చాపరేఖలు.  $\angle AOB = 30^\circ$  అయిన షేడ్ చేసిన ప్రదేశ వైశాల్యమును కనుగొనుము.  $(\pi = \frac{22}{7})$  అని తీసుకోండి)



#### SECTION-IV

- సూచనలు: 1. అన్ని ప్రశ్నలకు సమాధానములు రాయండి.  
2. ప్రతి ప్రశ్నకు 8 మార్కులు.  
3. ప్రతి ప్రశ్నకు అంతర్గత ఎంపిక కలదు.

$$5 \times 8 = 40$$

29. a)  $\sqrt{11}$  ఒక కరణీయ సంఖ్య అని చూపండి.

(లేదా)

b) ఒక ఘన బహుపది  $x^3 + 3x^2 - x - 3$  యొక్క శూన్యాలు 1, -1 మరియు -3 అగునని సరిచూడండి. బహుపది గుణకాలకు, శూన్యాలకు మధ్య గల సంబంధాన్ని సరిచూడండి.

30. a)  $2x^2 + x - 4 = 0$  వర్గసమీకరణం యొక్క మూలాలను వర్గంను పూర్తిచేయుట ద్వారా కనుగొనుము.

(లేదా)

b) ఒక నీటి ట్యాంకు రెండు చివరలు అర్ధగోళాకారముగా ఉన్న స్థూపము వలె ఉన్నది. స్థూపము యొక్క బాహ్య వ్యాసము 1.4 మీ. మరియు దాని పొడవు 8 మీ. నీటి ట్యాంకు బయట రంగు వేయడానికి చదరపు మీటరుకు ₹ 20 వంతున ఎంత ఖర్చు అగును ?

31. a) కింది వాటిని గణించండి.

(i)  $\frac{\sin^2 15^\circ + \sin^2 75^\circ}{\cos^2 36^\circ + \cos^2 54^\circ}$  (ii)  $\sin 5^\circ \cdot \cos 85^\circ + \cos 5^\circ \cdot \sin 85^\circ$

(లేదా)

b) ఒక ఆవాస ప్రాంతంలోని 25 కుటుంబాలకు సంబంధించిన దినసరి భోజన ఖర్చుల వివరాలు ఈ కింది పట్టికలో ఇవ్వబడినవి.

దినసరి భోజనఖర్చు (₹)	100-150	150-200	200-250	250-300	300-350
కుటుంబాల సంఖ్య	4	5	12	2	2

అయిన ఒక్క కుటుంబానికి అయ్యే సగటు భోజన ఖర్చును కనుగొనుము.

32. a) ఒక భవనం పై నుండి ఒక సెల్ టవర్ పై భాగాన్ని పరిశీలించిన  $60^\circ$  ఊర్ధ్వకోణం, దాని పాదం  $45^\circ$  నిమ్నకోణం చేస్తుంది. భవనం నుండి టవర్ కు గల మధ్యదూరం 7 మీ. అయిన టవర్ ఎత్తును కనుగొనుము.

(లేదా)

b) బాగుగా కలుపబడిన పేకముక్కల (52) కట్ట నుండి యాదృచ్ఛికంగా ఒక కార్డును తీస్తే అది ఈ క్రింది కార్డు అగుటకు సంభావ్యతలు లెక్కించండి.

- (i) నలుపు రాణి (ii) ముఖ కార్డు  
(iii) ఎరుపు ముఖ కార్డు (iv) ఎరుపు జాకీ

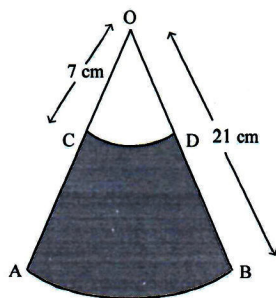
33. a)  $2x - 3y = 6$  మరియు  $4x - 6y = 12$  రేఖీయ సమీకరణాలను గ్రాఫ్ ద్వారా సాధించండి.

(లేదా)

b) ఇచ్చిన త్రిభుజము ABC కి సరూపంగా ఉంటూ, దాని భుజాలకు  $\frac{5}{3}$  రెట్లు వుండే అనురూప భుజాలు కలిగిన త్రిభుజాన్ని నిర్మించండి.

## 15E &amp; 16E

22. Show that  $a_1, a_2, a_3, \dots, a_n$  form an A.P where  $a_n$  is defined as  $a_n = 3 + 4n$  and find sum of the first 15 terms.
23. Write the following sets in the set-builder form
- (i)  $A = \{3, 6, 9, 12\}$  (ii)  $B = \{2, 4, 8, 16, 32\}$
- (iii)  $C = \{5, 25, 125, 625\}$  (iv)  $D = \{1, 4, 9, 25, \dots, 100\}$ .
24. Find  $10^{\text{th}}$  and  $n^{\text{th}}$  term of G.P. 5, 25, 125, .....
25. Find the co-ordinates of midpoint of line joining the points  $(\sin 45^\circ, \tan 30^\circ)$ ,  $(\cos 45^\circ, \cot 60^\circ)$ .
26. In two concentric circles, a chord of length 24 cm of larger circle becomes a tangent to the smaller circle whose radius is 5 cm. Find the radius of the larger circle.
27. Show that the point  $A(a, 0)$ ,  $B(-a, 0)$ ,  $C(0, a\sqrt{3})$  are the vertices of an equilateral triangle.
28. AB and CD are respectively arcs of two concentric circles of radii 21 cm and 7 cm with centre 'O'. If  $\angle AOB = 30^\circ$ , find the area of shaded region. (Use  $\pi = \frac{22}{7}$ )



## SECTION-IV

**Note:** 1. Answer all the Questions.

2. Each Question carries 8 Marks.

3. There is an internal choice for each question.

$$5 \times 8 = 40$$

29. a) Show that  $\sqrt{11}$  is an irrational number.

(OR)

- b) Verify that 1, -1 and -3 are the zeroes of the cubic polynomial  $x^3 + 3x^2 - x - 3$  and check the relationship between zeroes and the coefficients.

30. a) Find the roots of the quadratic equation  $2x^2 + x - 4 = 0$  by the method of completing the square.

(OR)

- b) A storage tank consists of a circular cylinder with a hemisphere stuck on either end. If the external diameter of the cylinder be 1.4 m and its length be 8 m. Find the cost of painting it on the outside at rate of ₹ 20 per  $\text{m}^2$ .

31. a) Evaluate the following.

(i)  $\frac{\sin^2 15^\circ + \sin^2 75^\circ}{\cos^2 36^\circ + \cos^2 54^\circ}$  (ii)  $\sin 5^\circ \cdot \cos 85^\circ + \cos 5^\circ \cdot \sin 85^\circ$

(OR)

- b) The table below shows the daily expenditure on food of 25 households in a locality.

Daily expenditure (in Rupees)	100-150	150-200	200-250	250-300	300-350
Number of households	4	5	12	2	2

**Find the mean daily expenditure on food.**

32. a) From the top of a building, the angle of elevation of the top of a cell tower is  $60^\circ$  and the angle of depression to its foot is  $45^\circ$ . If distance of the building from the tower is 7m, then find the height of the tower.

(OR)

- b) One card is drawn from a well-shuffled deck of 52 cards. Find the probability of getting

(i) A Queen of Black Colour

(ii) a face card

(iii) a red face card

(iv) a red jack.

33. a) Solve the linear equations  $2x - 3y = 6$  and  $4x - 6y = 12$  graphically.

(OR)

- b) Construct a triangle shadow similar to the given  $\triangle ABC$ , with its sides equal to  $\frac{5}{3}$  of the corresponding sides of  $\triangle ABC$ .

**SSC PUBLIC EXAMINATIONS JULY - 2020**  
**GENERAL SCIENCES (PHYSICAL SCIENCE & BIOLOGICAL SCIENCE) -**  
**PAPER - MARKS DIVISION**

**Time: 3 Hrs 15 Mins.**

**Maximum Marks: 100**

**PART-A**  
**PHYSICAL SCIENCE**

**Total Marks:46 Marks**

**SECTION-I : OBJECTIVE TYPE**

**6 Marks**

Q.Nos.1-6	6x1= 6 Marks
-----------	--------------

**SECTION-II : VERY SHORT ANSWER QUESTIONS**

**8Marks**

Q.Nos.7-10	4x2= 8 Marks
------------	--------------

**SECTION- III : SHORT ANSWER QUESTIONS**

**16Marks**

Q.Nos.11-14	4x4=16 Marks
-------------	--------------

**SECTION- IV: ESSAY & DIAGRAMS**

**16 Marks**

Q.Nos.15 & 16	2x8=16 Marks
---------------	--------------

**PART-B**  
**BIOLOGICAL SCIENBCE**

**Total Marks:54 Marks**

**SECTION-I : OBJECTIVE TYPE**

**6 Marks**

Q.Nos.1-6	6x1= 6 Marks
-----------	--------------

**SECTION-II : VERY SHORT ANSWER QUESTIONS**

**8Marks**

Q.Nos.7-10	4x2= 8 Marks
------------	--------------

**SECTION- III : SHORT ANSWER QUESTIONS**

**16Marks**

Q.Nos.11-14	4x4=16 Marks
-------------	--------------

**SECTION- IV: ESSAY & DIAGRAMS**

**24 Marks**

Q.Nos.15, 16 & 17	3x8=24 Marks
-------------------	--------------

**Total Questions: 33 (Physical Science: 16 and Biological Science: 17)**

**SECTION WISE MARKS DIVISION**

Section	Question Category	Marks allotted		Total
		Physical Science	Biological Science	
Section I	Objective Type	6 Marks	6 Marks	12 Marks
Section II	Very Short Answer Questions	8 Marks	8 Marks	16 Marks
Section III	Short Answer Question	16 Marks	16 Marks	32 Marks
Section IV	Essay & Diagrams	16 Marks	24 Marks	40 Marks
Total:		<b>46 Marks</b>	<b>54 Marks</b>	<b>100 Marks</b>

  
 15/05/2020  
**DIRECTOR**  
 of Government Examination  
 Andhra Pradesh, VIJAYAWADA

**SSC PUBLIC EXAMINATIONS : JULY-2020**  
**GENERAL SCIENCE - PAPER - I & II**  
**MODEL PAPER**  
**(Telugu Medium)**

Time: 3.15 Hrs.

Max. Marks : 100 Marks

సూచనలు :

1. ఈ ప్రశ్నాపత్రంలో Part-A మరియు Part-B కలదు.
2. Part-A నందు భౌతికశాస్త్రం ప్రశ్నలు మరియు Part-B నందు జీవశాస్త్రం ప్రశ్నలు కలవు.
3. Part-A మరియు Part-B నందు ప్రతి Part నందు 4 సెక్షన్లు కలవు.
4. ఈ ప్రశ్నపత్రం నందు 33 ప్రశ్నలు కలవు.
5. Part-A మరియు Part-B యొక్క Section-IV నందు ప్రశ్నలకు అంతర్గత ఎంపిక కలదు.
6. అన్ని ప్రశ్నలకు సమాధానాలు స్పష్టంగా మరియు గుండ్రంగా వ్రాయాలి.
7. 15 నిమిషాలు ప్రశ్నపత్రం చదవడానికి కేటాయించడమైనది.

**PART-A****SECTION - I**

సూచనలు : 1. అన్ని ప్రశ్నలకు జవాబులు వ్రాయాలి.

6 × 1 = 6

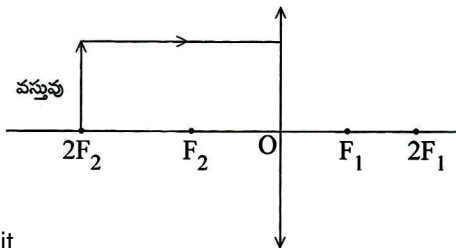
2. ప్రతి ప్రశ్నకు 1 మార్కు.
1. 30°C ను కెల్విన్ మానంలోకి మార్చండి.
2. సాధారణ ఉప్పు యొక్క రసాయనిక నామం .....
3. పౌలీవర్ణన నియమాన్ని వ్రాయండి.
4. వాక్యం 1 : 3s యొక్క  $n + l$  విలువ 3  
వాక్యం 2 : 3s యొక్క  $n + l$  విలువ 4  
ఈ క్రింది వానిలో సరియగు సమాధానాన్ని నీ జవాబుపత్రంపై వ్రాయుము.  
A) రెండు వాక్యములు సరియైనవే. B) వాక్యం 1 మాత్రమే సరియైనది.  
C) వాక్యం 2 మాత్రమే సరియైనది. D) రెండు వాక్యములు సరియైనవి కావు.
5. ఒక విద్యుత్ వాహకం పొడవును రెట్టింపు చేసిన దానియొక్క నిరోధము ..... (ఉష్ణోగ్రత, మధ్యచ్ఛేద వైశాల్యం స్థిరంగా ఉంచిన)  
A) పెరుగును B) తగ్గును C) శూన్యం అగుట D) మారదు.
6. అర్ధవాహకం యొక్క ఏదైనా ఒక ఉపయోగం వ్రాయండి.

**SECTION - II**

సూచనలు : 1. అన్ని ప్రశ్నలకు సమాధానాలు వ్రాయాలి.

4 × 2 = 8

2. ప్రతి ప్రశ్నకు 2 మార్కు.
7. క్రింది పటాన్ని పూర్తిచేసి తిరిగి మీ ప్రశ్న జవాబు పత్రంపై ఈ పటాన్ని పూర్తిగా గీయండి.



8. దీర్ఘదృష్టి, ద్రావ్యదృష్టిల మధ్య భేదాన్ని తెలుసుకోవటానికి ఏవేని రెండు ప్రశ్నలు వ్రాయండి.

9. క్రింది 4 క్వాంటం విలువలను చూసి, ఆ మూలకం పేరు ఊహించి వ్రాయండి.

$$n = 1, \quad l = 0, \quad m_l = 0, \quad m_s = +\frac{1}{2}$$

10. ఇనుము తుప్పు పట్టడానికి గాలి మరియు నీరు అవసరమని ఋజువు చేసే కృత్యం అవసరమైన పరికరాలను వ్రాయండి.

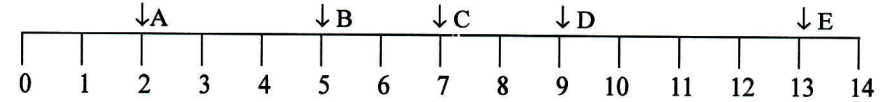
**SECTION - III**

సూచనలు : 1. అన్ని ప్రశ్నలకు జవాబులు వ్రాయాలి.

2. ప్రతి ప్రశ్నకు 4 మార్కులు.

4 × 4 = 16

11.



పై pH స్కేలుపై విలువలు ఆధారంగా క్రింది ప్రశ్నలకు సమాధానం వ్రాయండి.

- 1) A, B, C, D, E లలో బలమైన ఆమ్లం ఏది ?
- 2) A, B, C, D, E లలో బలమైన క్షారం ఏది ?
- 3) A, B, C, D, E లలో బలహీనమైన క్షారం ఏది ?
- 4) A, B, C, D, E లలో తటస్థమైనది ఏది ?

12. క్రింది పట్టికను చూసి ఇచ్చిన ప్రశ్నలకు సమాధానం వ్రాయండి.

యానక పదార్థం	A	B	C	D
వక్రీభవన గుణకం	1.3	1.003	1.65	2.42

- 1) వీటిలో ఏ యానక పదార్థం గుండా కాంతి వేగంగా ప్రయాణిస్తుంది.
- 2) వీటిలో ఏ యానక పదార్థంగా గలదా కాంతి నెమ్మదిగా ప్రయాణిస్తుంది.
- 3) మిగతా మూడింటితో పోలిస్తే ఏ యానక పదార్థంకు దృక్ సాంద్రత ఎక్కువ ?
- 4) వక్రీభవన గుణకం యొక్క ప్రమాణాలు వ్రాయండి.

13. క్రింది వానిని నిర్వచించండి.

- 1) ఫోటో నియమం
- 2) లెంజ్ నియమం

14. అష్టక సిద్ధాంతం అనగానేమి ? మూలకాల రసాయన ధర్మాలను వివరించడంలో అష్టక సిద్ధాంతం యొక్క పాత్రను నీవు ఎలా అభినందిస్తావు ?

**SECTION-IV**

సూచనలు : 1. అన్ని ప్రశ్నలకు జవాబులు వ్రాయాలి.

2. ప్రతి ప్రశ్నకు అంతర్గత ఎంపిక కలదు.

3. ప్రతి ప్రశ్నకు 8 మార్కులు.

2 × 8 = 16

15. క్రింది ధర్మాలు పీరియడ్ గ్రూపులలో ఏ విధంగా మార్పు చెందుతాయో వివరించండి.

- అ) పరమాణువ్యాసార్థం
- ఆ) అయోనికరణశక్తి
- ఇ) ఎలక్ట్రాన్ ఎఫినిటీ
- ఈ) ఋణ విద్యుదాత్మకత (లేదా)

సబ్బు యొక్క శుభ్రపరిచే చర్యను వ్రాయండి.

16. ఘనపదార్థం యొక్క విశిష్టతను ప్రయోగపూర్వకంగా కనుగొనే విధానాన్ని రాయండి.

(లేదా)

ఓమ్ నియమం తెల్పి దానిని ఋజువుపరిచే కృత్యాన్ని వివరించండి.

## SSC PUBLIC EXAMINATIONS : JULY-2020

## GENERAL SCIENCE - PAPER - I &amp; II

MODEL PAPER  
(English Medium)

Time: 3.15 Hrs.

Max. Marks : 100 Marks

## Instructions:

1. This paper consists of Part-A & Part-B.
2. Part-A contains questions from Physical Science and Part-B contains from Biological Science.
3. Part-A & Part-B contains 4 sections each.
4. There are 33 questions in the paper.
5. There is internal choice in Section-IV of Part-A & Part-B.
6. Write all the questions visibly & legibly.
7. 15 minutes are given for reading the question paper.

**PART-A**

## SECTION – I

Note: 1. Answer all the Questions.

2. Each Question carries 1 Mark.

6 × 1 = 6

1. Convert 30°C into Kelvin Scale
2. Chemical name of Common Salt is .....
3. State Pauli Exclusion Principle.
4. Statement 1 :  $n + l$  value of 3s is 3.  
Statement 2 :  $n + l$  value of 3s is 4.

Write the correct answer of the following in your answer booklet.

- Both Statements are correct.
  - Statement 1 is only correct.
  - Statement 2 is only correct.
  - Both Statements are wrong.
- When the length of a conductor is doubled then its' resistance will be \_\_\_\_\_ (When temperature and area of cross section remains constant)  
A) Increased      B) Decreased      C) become zero      D) Unchange
  - Write any one use of Semiconductor.

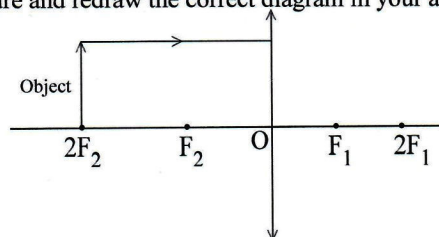
## SECTION – II

Note: 1. Answer all the Questions.

2. Each Question carries 2 Marks.

4 × 2 = 8

- Complete the figure and redraw the correct diagram in your answer booklet.



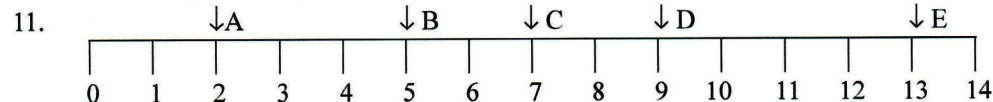
- Write any two questions to understand differences between Myopia and Hypermetropia.
- Assume and write the name of the element whose 4 quantum numbers are  
 $n = 1, l = 0, m_l = 0, m_s = +1/2$
- Write the material required to do an activity to prove water and air are essential for corrosion of Iron.

## SECTION – III

Note: 1. Answer all the Questions.

2 Each Question carries 4 Marks.

4 × 4 = 16



Based on the above pH scale values, answer the following questions.

- 1) Which is strongest acid among the A, B, C, D, E ?
  - 2) Which is strongest base among the A, B, C, D, E ?
  - 3) Which is weakest base among the A, B, C, D, E ?
  - 4) Which is neutral in natural among the A, B, C, D, E ?
12. Read the following table and answer the following Questions.

Material Medium	A	B	C	D
Refractive Index	1.3	1.003	1.65	2.42

- 1) In which medium light travels fast in the above given medium ?
  - 2) In which medium light travels slower in the above given medium ?
  - 3) Which medium is more optically denser among all these media ?
  - 4) Write the units of refractive index.
13. Define the following.  
1) Faraday's Law      2) Lenz Law
14. What is Octet rule ? How do you appreciate role of the Octet rule in explaining the chemical properties of elements ?

## SECTION-IV

Note: 1. Answer all the Questions.

2. Each Question has internal choice

3. Each Question carries 8 Marks

2 × 8 = 16

- How do the following properties change in a group and period ? Explain.  
A) Atomic radius      B) Ionization energy  
C) Electron affinity      D) Electronegativity

(OR)

Write about cleansing action of Soap.

- Explain the experimental procedure of finding the specific heat of solid.

(OR)

State Ohms Laws and explain the activity of prove it.

## PART-B

### SECTION – I

సూచనలు : 1. అన్ని ప్రశ్నలకు జవాబులు వ్రాయాలి.

2. ప్రతి ప్రశ్నకు 1 మార్కు

6 × 1 = 6

17. పరాన్నజీవి మొక్కకు ఒక ఉదాహరణ ఇవ్వండి.

18. కీటకాలు : వాయునాళాలు : : చేపలు : \_\_\_\_\_

19. నేను ఒక ఇటలీ వైద్యుడను. నేను కాలిలోని సిరలను అధ్యయనం చేసి చిన్న చిన్న కవాటాలను గుర్తించాను. నేనెవరిని ?

20. ఈ క్రింది వానిలో సరియైన వాక్యాన్ని గుర్తించండి.

A) ఆహారపు గొలుసు ఎల్లప్పుడు ఉత్పత్తిదారులతో మొదలవుతుంది.

B) ఆహారపు గొలుసు ఎల్లప్పుడు ఉత్పత్తిదారులతో అంతమవుతుంది.

21. సరైన పదంతో ఖాళీని పూరించండి.

నిర్మాణసామగ్రి అవయవాలు → అపసారి పరిణామం

క్రియాసామగ్రి అవయవాలు → ?

22. చిప్కో ఉద్యమం ఈ క్రింది వానిలో దేనికి సంబంధించినది.

a) చేపలు      b) సరీసృపాలు      c) పక్షులు      d) చెట్లు

### SECTION – II

సూచనలు : 1. అన్ని ప్రశ్నలకు సమాధానాలు వ్రాయాలి.

2. ప్రతి ప్రశ్నకు 2 మార్కు

4 × 2 = 8

23. అభివాహి మరియు అపవాహినాడుల మధ్య రెండు తేడాలను రాయండి.

24. నీవు ఒక డాక్టర్‌ని కలిసినప్పుడు 'క్లోమం' గురించి ఎటువంటి ప్రశ్నలను అడుగుతావు ?

25. రాముకు యాక్సిడెంట్ జరిగినప్పుడు 10 నిమిషాల తర్వాత కూడా రక్తం గడ్డకట్టలేదు. ఈ జన్మలోప వ్యాధిని ఏమంటారు ?

26. నీవు నాడీవ్యవస్థ గురించి గ్రంథాలయంలో సేకరించిన సమాచారం ఆధారంగా మానవులలో ఎన్ని జతల కపాలనాడులు వుంటాయో తెలుపుము.

### SECTION – III

సూచనలు : 1. అన్ని ప్రశ్నలకు జవాబులు వ్రాయాలి.

2. ప్రతి ప్రశ్నకు 4 మార్కులు.

4 × 4 = 16

27. పోషకస్థాయి అంటే ఏమిటి ? జీవావరణ పిరమిడ్‌లో అది దేనిని తెలియజేస్తుంది ?

28. మోల్స్ అర్ధపత్ర ప్రయోగ నిర్వహణలో తీసుకోవలసిన జాగ్రత్తలను తెలుపుము.

29. ఈ క్రింది పట్టికను పూరింపుము.

వ.సం.	వినాళగ్రంథి పేరు	ఉండే స్థానం	ప్రవించే హార్మోన్
1.	థైరాయిడ్	-	-
2.	అడ్రినల్	-	-

30. ప్రజలలో అవయవదానం పట్ల అవగాహన పెంచడానికి రెండు నినాదాలు వ్రాయండి.

### SECTION-IV

సూచనలు : 1. అన్ని ప్రశ్నలకు జవాబులు వ్రాయాలి.

2. ప్రతి ప్రశ్నకు అంతర్గత ఎంపిక కలదు.

3. ప్రతి ప్రశ్నకు 8 మార్కులు.

3 × 8 = 24

31. హరితరేణువు నిర్మాణాన్ని చక్కని పటం సహాయంతో వివరించండి.

(లేదా)

వాయుసహిత మరియు అవాయు శ్వాసక్రియల మధ్య తేడాలను రాయండి.

32. 'మాస్టికేషన్' అనగానేమి ? మానవులలో వివిధరకాల దంతాల పేర్లను తెలిపి, వాటి విధులను గురించి రాయండి.

(లేదా)

మానవులలో లింగ నిర్ధారణ ఏ విధంగా జరుగుతుందో ఉదాహరణతో వివరించండి.

33. శుక్రకణం పటం గీచి భాగాలను గుర్తించండి.

(లేదా)

మూత్రపిండములు, మూత్రనాళాలు, మూత్రాశయం చూపు మానవ విసర్జక వ్యవస్థ పటమును గీచి, భాగాలను గుర్తించుము.

**PART-B****SECTION – I****Note:** 1. Answer all the Questions.

2. Each Question carries 1 Mark.

 $6 \times 1 = 6$ 

17. Give an example of a parasite plant.

18. Insects : trachea :: Fish : \_\_\_\_\_

19. I am an Italian doctor. I studied about the veins in the leg and noticed small valves in them.

Who am I ?

20. Which of the following statement is correct ?

A) A food chain always starts with producers.

B) A food chain always ends with producers.

21. Fill the gap with appropriate word.

Homologous organs

→

Divergent Evolution

Analogous organs

→

?

22. The Chipko Movement is associated with

a) Fishes

b) Reptiles

c) Birds

d) Trees

**SECTION – II****Note:** 1. Answer all the Questions.

2. Each Question carries 2 Marks

 $4 \times 2 = 8$ 

23. Write two differences between afferent and efferent nerves.

24. If you visit a doctor what questions do you ask about pancreas ?

25. Ramu met with an accident. His blood did not clott even after 10 minutes. What is the name of this genetic disorder ?

26. Based on the information collected from your library about nervous system, how many pairs of cranial nerves are present in human beings ?

**SECTION – III****Note:** 1. Answer all the Questions.

2 Each Question carries 4 Marks.

 $4 \times 4 = 16$ 

27. What is a tropic level ? What does it represent in an ecological pyramid.

28. What are the precautions to be taken to conduct Mohl's half leaf experiment ?

29. Complete the following table.

S.No	Name of the endocrine gland	Location	Hormone Secreted
1.	Thyroid	-	-
2.	Adrenal	-	-

30. Write 2 slogans about Organ Donation to create awareness among people.

**SECTION-IV****Note:** 1. Answer all the Questions.

2. Each Question has internal choice.

3. Each Question carries 8 Marks.

 $3 \times 8 = 24$ 

31. Explain the structure of chloroplast with a neat labelled diagram.

**(OR)**

Write the differences between aerobic and anaerobic respiration.

32. What is Mastication ? Name the different types of teeth in human beings and write their functions.

**(OR)**

How does sex determination take place in humans ? Explain it with an example.

33. Draw a neat labelled diagram of Sperm Cell.

**(OR)**

Draw a neat labelled diagram of human excretory system showing Kidneys, Ureters and Urinary bladder.

**SSC PUBLIC EXAMINATIONS JULY - 2020**  
**SOCIAL STUDIES - MARKS DIVISION**  
**(PAPER I & II)**

Time: 3 Hrs 15 mins.

Max Marks: 100

**SECTION- I (OBJECTIVE QUESTIONS)**

Q NO	SYLLABUS	MARKS
1 - 6	Paper I (Lessons 1 -12)	6 X 1 = 6Marks
7 - 12	Paper II (Lessons 13 -22)	6 X 1 = 6Marks
		<b>TOTAL: 12 x 1 = 12M</b>

**SECTION- II (VERY SHORT ANSWER QUESTIONS)**

Q NO	SYLLABUS	MARKS
13 - 16	Paper I (Lessons 1 -12)	4 X 2 = 8 Marks
17 - 20	Paper II (Lessons 13 -22)	4 X 2 = 8 Marks
		<b>TOTAL: 8 x 2 = 16 M</b>

**SECTION- III (SHORT ANSWER QUESTIONS)**

Q NO	SYLLABUS	MARKS
21 - 24	Paper I (Lessons 1 -12)	4 X 4 = 16Marks
25 - 28	Paper II (Lessons 13 -22)	4 X 4 = 16Marks
		<b>TOTAL: 8 x 4 = 32M</b>

**SECTION- IV (ESSAY TYPE QUESTIONS)**


Q NO	SYLLABUS	MARKS
29 - 30	Paper I (Lessons 1 -12)	2 X 8 = 16Marks
31 - 32	Paper II (Lessons 13 -22)	2 X 8 = 16Marks
33	Paper I / II (LESSONS 1 - 22)	1 x 8 = 8 Marks
		<b>TOATAL: 5 X 8 = 40 M</b>

**SECTION WISE QUESTIONS & MARKS**

SECTION	QUESTION NO	MARKS
I	1 - 12	12 X 1 = 12 M
II	13 - 20	8 X 2 = 16 M
III	21 - 28	8 X 4 = 32 M
IV	29 - 33	5 X 8 = 40 M
	<b>TOTAL: 33 QUESTIONS</b>	<b>100 MARKS</b>

**WEIGHTAGE FOR ACADEMIC STANDARDS:**

ACADEMIC STANDARD	WEIGHTAGE	MARKS
I (CONCEPTUAL UNDERSTANDING)	40%	40
II (INTERPRETATION)	10%	10
III (INFORMATION SKILLS)	15%	15
IV (CURRENT ISSUES)	10%	10
V(MAPPING SKILLS)	15%	15
VI (APPRECIATION & SENSITIVITY)	10%	10
	<b>TOTAL: 100%</b>	<b>100 MARKS</b>

  
 15/05/2020  
**DIRECTOR**  
 of Government Examinations  
 Andhra Pradesh, VIJAYAWADA.

**SSC PUBLIC EXAMINATIONS : JULY-2020**  
**SOCIAL STUDIES - PAPER - I & II**  
**MODEL PAPER**  
**(English Medium)**

**Time: 3.15 Hrs.**

**Max. Marks : 100 Marks**

**Instructions:**

- 15 Minutes are allotted for reading the question paper in addition to 3.00 hours for writing the answers.
- All answers should be written in the separate answer booklet.
- There are four sections in the question paper.
- There is internal choice in Section-IV.

**SECTION – I**

**Note:** 1. If any question is answered more than once in this section, the earlier answer will only be considered.

2. Answer all the questions.

3. Each question carries 1 Mark.

**12 × 1 = 12 M**


- Give any two examples for perennial rivers.
- Identify the wrongly matched pair and write it in the answer booklet.

<b>Primary Sector</b>	<b>Fishing</b>
<b>Secondary Sector</b>	<b>Mining</b>
<b>Tertiary Sector</b>	<b>Banking</b>

- Which mountains cause very low amount of rainfall in Thar Desert ?
- Census is about to start in India soon. 'A' says that this census shows age structure, gender ratio and literacy rate. 'B' says that it shows the size and density of population. Who is correct ?
  - A only
  - B only
  - A & B both
  - None of the above
- Poorest of the poor have a provision to get 35 kgs of grains per month under PDS. Name the ration card related to this.
- Which of the following place is nearer to the equator ?
  - Trivandrum
  - Kanyakumari
  - Chennai
- Expand U.S.S.R.
- The relation between the items in the first pair is the same with those in the second pair. Find out the missed item of the second pair.

Vietnam : France :: India : ?

9. The picture given below is the logo of which international organisation ?

LOGO	INTERNATIONAL ORGANISATION
	

- In which state did the Anti-Hindi agitation started ?
- The chairman of the Constitutional Drafting Committee was ..... (Fill up the blank)
- Based on the information given below, answer the question that follows.

Beginning of First World War	Russian Revolution	Treaty of Versailles	Breakout of Second World War	German Invasion of USSR
1914	1917	1919	1939	1942

**Q. Name the country which withdrew from the World War I before the War ?**

**SECTION – II**

**Note:** 1. Answer all the Questions.

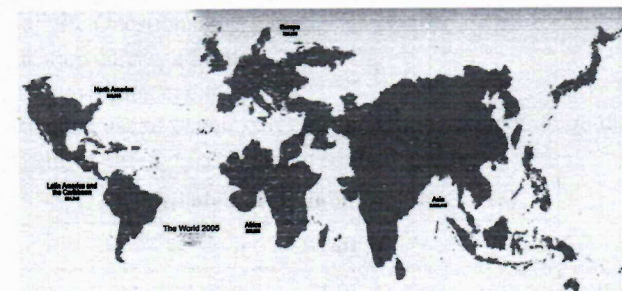
2. Each Question carries 2 Marks.

**8 × 2 = 16**

- What is meant by working capital ?
- It is better to ban the use of plastic carry bags. Write your opinion on this.
- Plot the below information on a bar graph (rough).

Year	Cultivated area (in million hectares)
2000	140
2010	140

- Observe the below world map which is based on the basis of population and answer the question that follows.



**Q. Asian Continent looks the largest in the above map. Why ?**

**SSC PUBLIC EXAMINATIONS : JULY-2020**  
**SOCIAL STUDIES - PAPER - I & II**  
**MODEL PAPER**  
**(Telugu Medium)**

Time: 3.15 Hrs.

Max. Marks : 100 Marks

సూచనలు :

1. జవాబులు రాయడానికి కేటాయించబడిన మూడుగంటల సమయమునకు అదనంగా ప్రశ్నపత్రం చదువుకోవడానికి 15 నిమిషాల సమయం ఇవ్వబడినది.
2. అన్ని జవాబులను విడిగా ఇచ్చిన జవాబుల పుస్తకమునందే రాయవలెను.
3. ప్రశ్నపత్రమునందు నాలుగు విభాగములు ఉన్నాయి.
4. నాలుగో విభాగమునందు అంతర్గత ఎంపిక (ఇంటర్నల్ ఛాయిస్) కు అవకాశం ఉంది.

**SECTION – I**

- Note:** 1. ఈ విభాగం నందు ఏదైనా ప్రశ్నకు ఒకటి కంటే ఎక్కువమార్లు జవాబులు రాసినట్లయితే, మొదటగా రాసిన జవాబు మాత్రమే పరిగణనలోకి తీసుకోబడుతుంది.
2. అన్ని ప్రశ్నలకు జవాబులు రాయండి.
3. ప్రతి ప్రశ్నకు 1 మార్కు.


12 × 1 = 12 M

1. జీవనదులకు ఏవైనా రెండు ఉదాహరణలు ఇవ్వండి.
2. తప్పుగా జతపరచబడిన జతను గుర్తించి సమాధానపత్రములో రాయండి.

ప్రాథమిక రంగం	చేపలు పట్టడం
ద్వితీయ రంగం	గనుల తవ్వకం
తృతీయ రంగం	బ్యాంకింగ్

3. థార్ ఎడారిలో అతి తక్కువ వర్షపాతానికి కారణమవుతున్న పర్వతాలు ఏవి ?
  4. భారతదేశంలో త్వరలో జనగణన మొదలుకానున్నది. దీని వలన వయోపరిమితి (age structure), లింగ నిష్పత్తి మరియు అక్షరాస్యతా శాతం తెలుస్తాయని A అంటున్నాడు. జనాభా పరిమాణం, జనసాంద్రత తెలుస్తాయని B అంటున్నాడు. వీరిద్దరిలో ఎవరు చెప్పిన అంశం సరైనది ?
- A మాత్రమే
  - B మాత్రమే
  - A మరియు B రెండూ
  - పైవేవీ కాదు
5. పేదలలో కూడా అత్యంత పేదలకు ప్రజా పంపిణీ వ్యవస్థ ద్వారా నెలకు 35 కేజీల అహార ధాన్యాలు అందుతాయి. దీనికి సంబంధించిన రేషన్ కార్డు పేరును తెలపండి.
  6. క్రింది వానిలో భూమధ్యరేఖకు దగ్గరగా ఉన్న ప్రదేశం ఏది ?
- త్రివేంద్రం
  - కన్యాకుమారి
  - చెన్నై
7. యు.ఎస్.ఎస్.ఆర్ (U.S.S.R) ను విస్తరించండి.

8. మొదటి జతలోని అంశముల మధ్య గల సంబంధమును అనుసరించి రెండవ జతలో గల ఖాళీని పూరించండి.  
వియత్నాం : ఫ్రాన్స్ :: భారతదేశం : ?
9. క్రింది ఇవ్వబడిన లోగో ఏ అంతర్జాతీయ సంస్థకు చెందినది ?

లోగో	అంతర్జాతీయ సంస్థ
	

10. హిందీ వ్యతిరేక ఆందోళన ప్రారంభమైన రాష్ట్రమేది ?
11. రాజ్యాంగ రచనా కమిటీ అధ్యక్షుడు ..... (ఖాళీని పూరించండి.)
12. క్రింది సమాచారం ఆధారంగా దిగువ ప్రశ్నకు జవాబు ఇవ్వండి.

మొదటి ప్రపంచ యుద్ధం ప్రారంభం	రష్యా విజ్ఞవం	వర్షయిల్స్ సంధి	రెండవ ప్రపంచ యుద్ధం ప్రారంభం	యు.ఎస్.ఎస్.ఆర్. పై జర్మనీ దాడి
1914	1917	1919	1939	1942

Q. మొదటి ప్రపంచ యుద్ధం నుండి యుద్ధం ముగియక ముందే విరమించుకున్న దేశమేది ?

**SECTION – II**


- Note:** 1. అన్ని ప్రశ్నలకు జవాబులు రాయండి.
2. ప్రతి ప్రశ్నకు 2 మార్కులు.

8 × 2 = 16

13. నిర్వాహక పెట్టుబడి అనగానేమి ?
14. “ప్లాస్టాక్ సంచల వాదకాన్ని నిషేధించడం మంచిది.” – దీనిపై మీ అభిప్రాయాన్ని రాయండి.
15. క్రింది ఇవ్వబడిన సమాచారాన్ని బార్ గ్రాఫ్ (చిత్తు పటం)లో చూపండి.

సంవత్సరం	సాగు విస్తీర్ణం (మిలియన్ హెక్టార్లలో)
2000	140
2010	140

16. జనాభా ఆధారంగా గీయబడిన క్రింది ప్రపంచ పటాన్ని పరిశీలించి దిగువ ఇవ్వబడిన ప్రశ్నకు సమాధానమివ్వండి.



Q. పై పటంలో ఆసియా ఖండం అన్నిటికంటే పెద్దదిగా కనిపిస్తున్నది. దీనికి కారణం ఏమిటి ?

17. Mention any two environmental problems faced by Nigeria.
18. What is the importance of 1977 elections in India ?
19. Observe the following table and answer the given questions.

#### Coalition Governments and some political parties from 1980s

Governing Parties	Governing Parties	Governing Parties
National Front 1989-1990	United Front 1996-1998	National Democratic Alliance 1998-2004
JD; DMK; AGP; TDP ; Jammu & Kashmir National Conference (JKNC)	JKNC; TDP; TMC; CPI; AGP; DMK; MGP; Samajwadi Party	JDU; SAD; AIADMK, JKNC; Trinamool Congress; Biju Janata Dal ; Shiva Sena ;
Supporting Parties	Supporting Parties	Supporting Parties
CPM; CPI, BJP	CPM	TDP

This is not a complete list of political parties that either supported or were part of the government. Often we have listed only those parties that had more 5 or MPs

- 1) What are the Governing parties from 1989-1990.
- 2) What are the parties in NDA ?
20. "I have a dream that my four little children will one day live in a nation where they will not be judged by the colour of their skin but by the content of their character ...

*Dr. Martin Luther King Jr.*

Express the sensitivity in this speech.

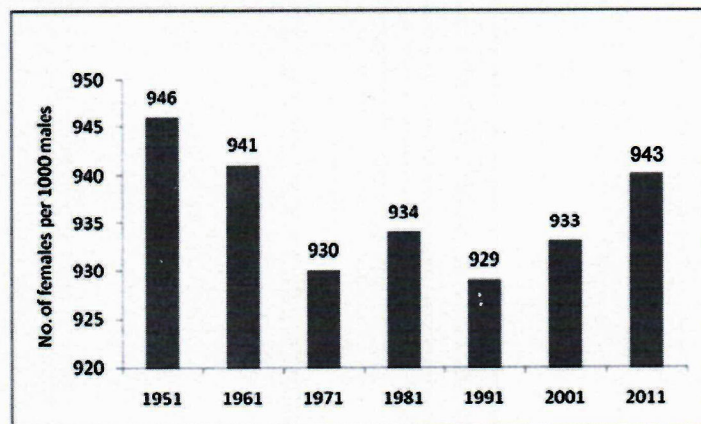
### SECTION – III

**Note:** 1. Answer all the Questions.

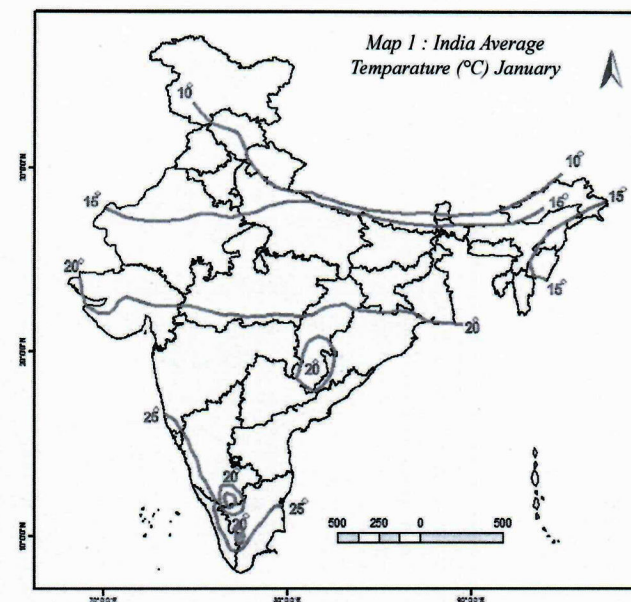
2 Each Question carries 4 Marks.

8 × 4 = 32

21. Suggest the precautions we can take to prevent the spread of Corona virus.
22. Mention any four important aspects that attracted you about the Schooling Revolution in Himachal Pradesh.
23. Observe the graph given below and write your observations.



24. Based on the map given below, name any four states which record average temperature more than 15 degree in the month of January.



25. Who is regarded as the father of modern China ? What were the 'three principles of his programme ?
26. Write about the League of Nations.
27. Mention the Constitutional provisions that facilitate social change.
28. Explain the role played by women in Anti arrack movement in the then Andhra Pradesh.

### SECTION-IV

**Note:** 1. Answer all the Questions.

2. Each Question carries 8 Marks.

5 × 8 = 40

29. Explain about the structural features of the Western Ghats.

(OR)

Describe the monsoon mechanism of India.

30. What measures are being taken up by the government for the development of government schools in Andhra Pradesh ? Explain.

(OR)

Explain the problems of migrant labourers ?

31. Hitler said, "We do not consider it correct for the woman to interfere in the world of the man, in his main sphere" - How far are his words justifiable ? Give your opinion.

(OR)

"The emergency period was a setback to the Indian democracy" - Do you agree with this statement ? Explain.

17. నైజీరియా ఎదుర్కొన్న ఏవైనా రెండు పర్యావరణ సమస్యలను ఏవేని రెండింటిని పేర్కొనండి.  
 18. భారతదేశంలో 1977 ఎన్నికల యొక్క ప్రాధాన్యతను తెలపండి.  
 19. క్రిందనీయబడిన పట్టికను పరిశీలించి, ఈయబడిన ప్రశ్నలకు సమాధానములిమ్ము.

1980ల నుంచి సంవత్సర ప్రభుత్వాలు కొన్ని రాజకీయ పార్టీలు

అధికారంలో ఉన్న పార్టీలు	విపక్ష పార్టీలు	అధికారంలో ఉన్న పార్టీలు	విపక్ష పార్టీలు
జె.డి. డిఎంకె, ఎజిపీ, బి.డి.పి. జమ్మూ & కాశ్మీర్ నేషనల్ కాన్ఫరెన్స్ (జెకె ఎన్ఎస్సీ)	జెకెఎస్ఎస్, బి.డి.పి, బి.ఎం.సి. సిపిఐ, ఎజిపీ, డిఎంకె, ఎంజిపీ.	జె.డి.యూ, ఎన్ఎడి, ఎఐఎడిఎంకె, జెకెఎస్ఎస్, శ్రమమూల కాంగ్రెస్, బిజూ జనతా దళ్, శివసేన	జె.డి.యూ, ఎన్ఎడి, ఎఐఎడిఎంకె, జెకెఎస్ఎస్, శ్రమమూల కాంగ్రెస్, బిజూ జనతా దళ్, శివసేన
మద్దతునిచ్చిన పార్టీలు సిపిఎం, సిపిఐ, బిజెపి	మద్దతునిచ్చిన పార్టీలు సిపిఎం	మద్దతునిచ్చిన పార్టీలు బి.డి.పి	మద్దతునిచ్చిన పార్టీలు బి.డి.పి

ఇది ప్రభుత్వంలో భాగస్వామ్యమైన లేదా మద్దతు ఇచ్చిన అన్ని రాజకీయ పార్టీల జాబితా కాదు. తరచు, అందుబాటులో లేదా అంతంతవేల ఎత్తున ఎంపీలు ఉన్న పార్టీలను పేర్కొన్నాయి.

- 1) 1989-1990లలో అధికారంలో ఉన్న పార్టీలు ఏవి ?  
 2) ఎన్.డి.లోని పార్టీలు ఏవి ?  
 20. “నా నాలుగురు చిన్నపిల్లలు ఒకనాడు వాళ్ళ చర్మం రంగుబట్టి కాకుండా వాళ్ళ వ్యక్తిత్వ లక్షణాలను బట్టి అంచనా వేసే దేశంలో ఉంటారని నాకొక కల ఉంది ...”  
 ఈ ఉపన్యాసంలోని సున్నితత్వాన్ని తెలియచేయండి.

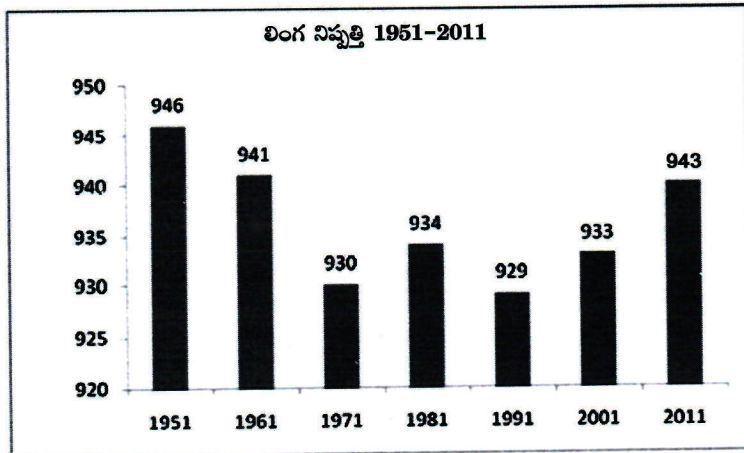
### SECTION – III

Note: 1. అన్ని ప్రశ్నలకు జవాబులు రాయండి.

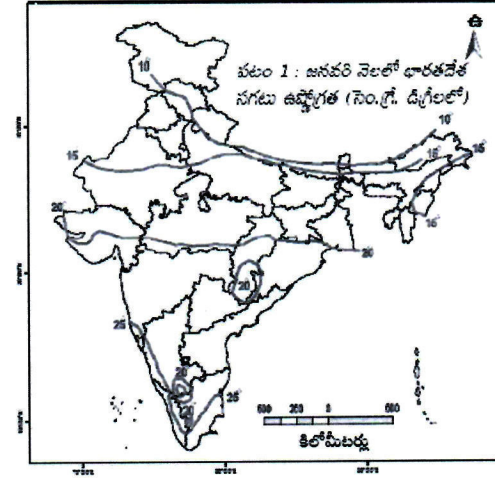
2. ప్రతి ప్రశ్నకు 4 మార్కులు.

8 × 4 = 32

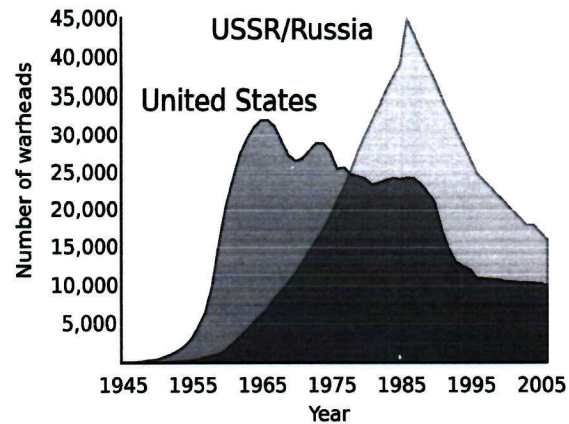
21. కరోనా వైరస్ వ్యాప్తిని నిరోధించడానికి మనం తీసుకోవగలగిన జాగ్రత్తలను సూచించండి.  
 22. హిమాచల్ ప్రదేశ్ పాఠశాల విద్యార్థివలన ముఖ్యమంత్రి సంతకం చేసిన ఏవైనా నాలుగు ముఖ్యాంశములను తెలపండి.  
 23. క్రింది గ్రాఫ్ ఆధారంగా మీ పరిశీలనలను రాయండి.



24. క్రింది పటం ఆధారంగా జనవరి నెలలో 15 డిగ్రీకు మించిన సగటు ఉష్ణోగ్రతలను నమోదు చేసే ఏవైనా నాలుగు రాష్ట్రాలను పేర్కొనండి.



32. Based on the information given in the graph below, mention any four aspects of the Cold War.



Graph 1 : US and USSR nuclear stockpiles

(OR)

Based on the information given below, answer the questions given.

#### Time line

Beginning of First World War July 28	• 1914
Russian Revolution	• 1917
End of First World War	• 1918
Treaty of Versailles	• 1919
Formation of League of Nations	• 1919
Rise of Hitler in Germany	• 1933
Breakout of Second World War	• 1939
German Invasion of USSR	• 1941
Formation of United Nations Organisation	• 1945
End of Second World War August	• 1945

- Who won the Second World War ?
- What was the immediate provocation of World War II ?
- Mention the super power that joined lately in the World War II.
- Name the person who was mainly responsible for the mass murder of the Jews.

33. A) Mark the following on the outline map of India.

4 M

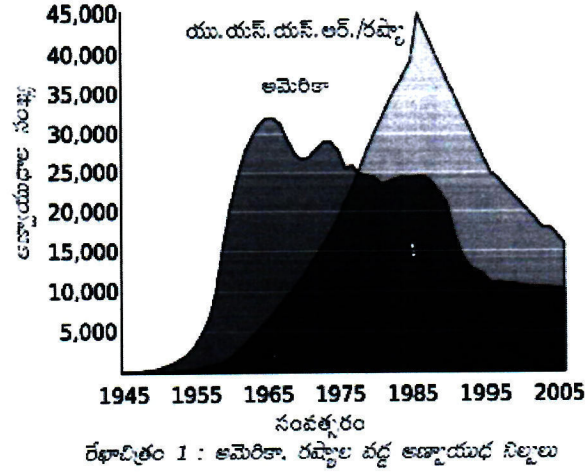
- |                        |                  |
|------------------------|------------------|
| a) 1) Delhi            | b) 1) Aravalis   |
| 2) Lakshadweep islands | 2) River Krishna |
| 3) River Godavari      | 3) Sikkim        |
| 4) Arunachal Pradesh   | 4) Indian Ocean  |

- B) Mark the following on the outline map of the world.

4 M

- |             |                         |
|-------------|-------------------------|
| a) 1) Egypt | b) 1) Meditteranean Sea |
| 2) Portugal | 2) Srilanka             |
| 3) China    | 3) Equator              |
| 4) USA      | 4) France               |

32. క్రింది గ్రాఫ్‌లోని సమాచారం ఆధారంగా ప్రచ్చన్న యుద్ధమునకు సంబంధించి ఏవైనా నాలుగు అంశాలను పేర్కొనండి.



(లేదా)

క్రింది సమాచారం ఆధారంగా ఇవ్వబడిన ప్రశ్నలకు జవాబులు రాయండి.

కాల పట్టిక

మొదటి ప్రపంచ యుద్ధం ప్రారంభం, జూలై 28

● 1914

రష్యా విప్లవం

● 1917

మొదటి ప్రపంచ యుద్ధం ముగింపు

● 1918

వర్సాయిల్స్ ఒప్పందం

● 1919

నానాజాతి సమితి ఏర్పాటు

● 1919

జర్మనీలో హిట్లర్ ప్రాభవం

● 1933

రెండవ ప్రపంచ యుద్ధం ఆరంభం

● 1939

రష్యాపై జర్మన్ దండెత్తటం

● 1941

బర్లినాన్ని జర్మన్ సేద్యం

● 1945

రెండవ ప్రపంచ యుద్ధం ముగింపు, ఆగస్టు

● 1945

- రెండవ ప్రపంచయుద్ధంలో విజయం సాధించినవారెవరు?
- రెండవ ప్రపంచయుద్ధానికి తక్షణ కారణమేది ?
- రెండవ ప్రపంచయుద్ధంలో ఆలస్యంగా చేరిన దేశమేది?
- యుద్ధం మారణకాండకు ప్రధాన బాధ్యత వహించవలసిన వ్యక్తి పేరును తెలపండి.

33. A) భారతదేశ అవుట్‌లైన్ పటంలో క్రింది అంశాలను గుర్తించుము.

4 M

a) 1) ఢిల్లీ

b) 1) ఆరావళీలు

2) లక్షదీవులు

(లేదా)

2) కృష్ణానది

3) గోదావరి నది

3) సిక్కిం

4) అరుణాచల్‌ప్రదేశ్

4) హిందూ మహాసముద్రము

B) క్రింది దేశాలను ప్రపంచ అవుట్‌లైన్ పటంలో గుర్తించుము.

4 M

a) 1) ఈజిప్ట్

b) 1) మధ్యధరా సముద్రం

2) పోర్చుగల్

(లేదా)

2) శ్రీలంక

3) చైనా

3) భూమధ్యరేఖ

4) యు.ఎస్.ఎ

4) ఫ్రాన్స్

# అక్షరాలు

## పద్యాల పదాలు

- 1) చేరువ = దగ్గర
- 2) అర్హతగలవానిని = అర్హతముచే మిక్కిలి  
కొనియాడుచునది
- 3) పైభాగపతం = పైభాగముగా కూర్చినది
- 4) పునతం = పవిత్రం
- 5) ముగ్ధులు = మురిసిపోయినవారు
- 6) స్మితకాంతి = అరునవ్వుల తెలుగు
- 7) ఇతి = ఇతాశం
- 8) మిక్కిలి = అధికం, ఎక్కువ
- 9) రచనకరణం = చంద్రబింబం
- 10) ఉత్తమలు = గ్రామ్యులు
- 11) ముష్కరులు = దుష్టులు
- 12) లాలన = యుక్తిగీతం
- 13) ఘనత = గ్రామ్యతనము
- 14) మర్మము = రహస్యము
- 15) కంఠకొమ్మన = కూటాద్రము
- 16) వివరము = రుద్రము
- 17) నభము = ఉష్ణము, శిశువు
- 18) అదని = అంతరిక్షం
- 19) క్రియాత్మకమృతాన్ని = నిర్మలమృతాన్ని
- 20) రంగులే = అల్పము
- 21) కవచకపటము = అలంకారము పటము
- 22) సంబంధము = సంబంధమున ముగియించుట
- 23) శిశువు = అబి
- 24) ఆదేశము = ఆదేశము

1. శిశువు = శిశువు, బిడ్డ, ఉత్తమ, నిర్మలము
2. కన్య = బిడ్డ, చివ్వు, నత్రము, సుమనము
3. అనలం = అగ్ని, వయో, భువనము
4. కాలత = మృగము, కాలము, ఇంటి, పరుతి
5. క్రొత్త = అశుభము, ఇల్లు
6. కళ్యాణం = నియమం, స్థావరం, నెలవు, బస
7. శ్రేణి = పరంపర, పంక్తి, పరస
8. రాజు = భూమి, అనుమతి, ప్రభు
9. పురము = పురి, పట్టణము, నగరము
10. సందేహం = సందేహము, శంక, అనుమాన
11. చాటు = పోత, రీతి, విధం
12. పల్లె = ప్రవాహం, పల్లె, ప్రాంతము
13. కైరవం = కలవ, కైరవ, ఉత్తమ, కుమర
14. కౌముది = పద్మ, చంద్రిక, జ్యోతి
15. చంద్రుడు = సుధాకరుడు, రచనకరణము, జాతకము, ఇంద్రుడు
16. ఆమెనన్న/ఆమె = ఆకలి, అంశుకము, ఆమె, ఆమె
17. అంతావు = పశువు, బిడ్డ, ప్రాణి
18. మూలము = మూలము, శిశువు, ఉత్తమము
19. బలము = సత్త్వము, బాసన, రూపము
20. వివరము = రుద్రం, అలం, కలగ
21. అశ్మము = శివుడు, శంకరుడు
22. లక్ష్మి = కమల, హరిత్రయ, పద్మ, ఇంద్ర
23. దేహం = శరీరము, కాయము, గ్రామము
24. నరము = అలము, ఉదకము, నరు
25. పయోనిధి = సముద్రము, కలం, సాగరము
26. స్రో = వసతి, పరుతి, మయిళ, ఇంటి
27. పుట్టి = విధము, రీతి, ఆరు

31) శాఖ = తొమ్మిది, చెట్టు, వేదము	32) సంకల్పము = సంకల్పం
48) సమయము = కాలము, ప్రతిష్ఠ, నిర్మాణము	33) పట్టణము = పట్టణము
49) సూత్రము = మూలము, అర్థము, విజ్ఞానము	34) కైరవము = కైరవము
50) యాతి = కాలి, ఇంద్రుడు, విజ్ఞుడు	35) బలము = బలము
1) రాజు = రాజు	36) భక్తి = భక్తి
2) శిశువు = శిశువు	37) పుష్కలము = పుష్కలము
3) భూమి = భూమి	38) కుష్టులము = కుష్టులము
4) రత్నము = రత్నము	39) సయితము = సయితము
5) భక్తి = భక్తి	40) పుష్కలము = పుష్కలము
6) గౌరవము = గౌరవము	41) సుఖము = సుఖము
7) పుష్కలము = పుష్కలం	42) భక్తి = భక్తి
8) బలము = బలము	43) ప్రాణము = ప్రాణము
9) జ్యోతి = జ్యోతి	44) విషము = విషము
10) గ్రహము = గ్రహము	45) అగ్ని = అగ్ని
11) రాజు = రాజు	46) సన్మతి = సన్మతి
12) భూమి = భూమి	47) సునయనము = సునయనము
13) అంబ = అంబ	48) శూన్యము = శూన్యము
14) అభిము = అభిము	49) అభిము = అభిము
15) అంబ = అంబ	50) అంబ = అంబ
16) అంబ = అంబ	51) అంబ = అంబ
17) అంబ = అంబ	52) అంబ = అంబ
18) అంబ = అంబ	53) అంబ = అంబ
19) అంబ = అంబ	54) అంబ = అంబ
20) అంబ = అంబ	55) అంబ = అంబ
21) అంబ = అంబ	56) అంబ = అంబ
22) అంబ = అంబ	57) అంబ = అంబ
23) అంబ = అంబ	58) అంబ = అంబ
24) అంబ = అంబ	59) అంబ = అంబ
25) అంబ = అంబ	60) అంబ = అంబ
26) అంబ = అంబ	61) అంబ = అంబ
27) అంబ = అంబ	62) అంబ = అంబ
28) అంబ = అంబ	63) అంబ = అంబ
29) అంబ = అంబ	64) అంబ = అంబ
30) అంబ = అంబ	65) అంబ = అంబ
31) అంబ = అంబ	66) అంబ = అంబ
32) అంబ = అంబ	67) అంబ = అంబ
33) అంబ = అంబ	68) అంబ = అంబ
34) అంబ = అంబ	69) అంబ = అంబ
35) అంబ = అంబ	70) అంబ = అంబ
36) అంబ = అంబ	71) అంబ = అంబ
37) అంబ = అంబ	72) అంబ = అంబ
38) అంబ = అంబ	73) అంబ = అంబ
39) అంబ = అంబ	74) అంబ = అంబ
40) అంబ = అంబ	75) అంబ = అంబ
41) అంబ = అంబ	76) అంబ = అంబ
42) అంబ = అంబ	77) అంబ = అంబ
43) అంబ = అంబ	78) అంబ = అంబ
44) అంబ = అంబ	79) అంబ = అంబ
45) అంబ = అంబ	80) అంబ = అంబ
46) అంబ = అంబ	81) అంబ = అంబ
47) అంబ = అంబ	82) అంబ = అంబ
48) అంబ = అంబ	83) అంబ = అంబ
49) అంబ = అంబ	84) అంబ = అంబ
50) అంబ = అంబ	85) అంబ = అంబ
51) అంబ = అంబ	86) అంబ = అంబ
52) అంబ = అంబ	87) అంబ = అంబ
53) అంబ = అంబ	88) అంబ = అంబ
54) అంబ = అంబ	89) అంబ = అంబ
55) అంబ = అంబ	90) అంబ = అంబ
56) అంబ = అంబ	91) అంబ = అంబ
57) అంబ = అంబ	92) అంబ = అంబ
58) అంబ = అంబ	93) అంబ = అంబ
59) అంబ = అంబ	94) అంబ = అంబ
60) అంబ = అంబ	95) అంబ = అంబ
61) అంబ = అంబ	96) అంబ = అంబ
62) అంబ = అంబ	97) అంబ = అంబ
63) అంబ = అంబ	98) అంబ = అంబ
64) అంబ = అంబ	99) అంబ = అంబ
65) అంబ = అంబ	100) అంబ = అంబ

## సంధులు

1m2

### సంధుల సంధి:-

- 1) పుష్కరిణము = పుష్క + రిణము
- 2) రజనశ్రవణము = రజన + శ్రవణము
- 3) చంద్రానందము = చంద్రా + నందము
- 4) చంద్రానందము = చంద్ర + నందము
- 5) సుమతీ = సుమ + తీ
- 6) కుటుంబము = కుట + బము
- 7) పుష్కరిణము = పుష్క + రిణము
- 8) పుష్కరిణము = పుష్క + రిణము
- 9) మునిశ్రవణము = ముని + శ్రవణము
- 10) పుష్కరిణము = పుష్క + రిణము

### గుణసంధి:-

- 1) నిర్మలము = నిర్మ + లము
- 2) గుణము = గుణ + మము
- 3) ఇంద్రుడు = ఇంద్ర + డుడు
- 4) చంద్రానందము = చంద్రా + నందము
- 5) అమృతము = అమృ + తము
- 6) జీవానందము = జీవా + నందము
- 7) మహానందము = మహా + నందము

### యణాంత సంధి:-

- 1) అంతము = అంత + మము

### పుట్టి సంధి

- 1) రక్షణము = రక్ష + ణము
- 2) గుణము = గుణ + మము

### అర్థ సంధి

- 1) సత్యము = సత + యము
- 2) అర్థము = అర్థ + మము

### అనునాసిక సంధి

- 1) అనంతము = అంత + మము
- 2) అనంతము = అంత + మము

- 3) సమస్తము = సత్ + మము
- 4) అనంతము = అంత + మము

### చిహ్న సంధి:-

- 1) సమస్తము = సత్ + మము
- 2) సమస్తము = సత్ + మము
- 3) సమస్తము = సత్ + మము
- 4) సమస్తము = సత్ + మము
- 5) సమస్తము = సత్ + మము
- 6) సమస్తము = సత్ + మము
- 7) సమస్తము = సత్ + మము
- 8) సమస్తము = సత్ + మము
- 9) సమస్తము = సత్ + మము
- 10) సమస్తము = సత్ + మము
- 11) సమస్తము = సత్ + మము
- 12) సమస్తము = సత్ + మము
- 13) సమస్తము = సత్ + మము
- 14) సమస్తము = సత్ + మము
- 15) సమస్తము = సత్ + మము
- 16) సమస్తము = సత్ + మము
- 17) సమస్తము = సత్ + మము
- 18) సమస్తము = సత్ + మము
- 19) సమస్తము = సత్ + మము
- 20) సమస్తము = సత్ + మము

### శ్చుత్వ సంధి

- 1) నిస్ + అంత → నిస్సంత
- 2) సంతాపము = సత్ + తాపము
- 3) శాంతము = శాంత + మము
- 4) అర్థము = అర్థ + మము
- 5) శాంతము = శాంత + మము
- 6) సంతాపము = సత్ + తాపము
- 7) సంతాపము = సత్ + తాపము

### ఉత్ప సంధి:-

- 1) అంతము = అంత + మము
- 2) అంతము = అంత + మము
- 3) అంతము = అంత + మము

- 6) అర్థము = అర్థ + మము
- 7) అర్థము = అర్థ + మము
- 8) అర్థము = అర్థ + మము
- 9) అర్థము = అర్థ + మము
- 10) అర్థము = అర్థ + మము
- 11) అర్థము = అర్థ + మము

### అర్థ సంధి

- 1) అర్థము = అర్థ + మము
- 2) అర్థము = అర్థ + మము
- 3) అర్థము = అర్థ + మము

### ఇత్వ సంధి

- 1) అర్థము = అర్థ + మము
- 2) అర్థము = అర్థ + మము
- 3) అర్థము = అర్థ + మము

### యత్వ సంధి

- 1) అర్థము = అర్థ + మము
- 2) అర్థము = అర్థ + మము
- 3) అర్థము = అర్థ + మము

### జ్జ్వల సంధి

- 1) అర్థము = అర్థ + మము
- 2) అర్థము = అర్థ + మము
- 3) అర్థము = అర్థ + మము

### జ్జ్వల సంధి

- 1) అర్థము = అర్థ + మము
- 2) అర్థము = అర్థ + మము
- 3) అర్థము = అర్థ + మము

### యత్వ సంధి

- 1) అర్థము = అర్థ + మము
- 2) అర్థము = అర్థ + మము

### గ్రంథాంత సంధి

1. అర్థము = అర్థ + మము
2. అర్థము = అర్థ + మము
3. అర్థము = అర్థ + మము
4. అర్థము = అర్థ + మము
5. అర్థము = అర్థ + మము
6. అర్థము = అర్థ + మము

### లూక సంధి

- 1) అర్థము = అర్థ + మము
- 2) అర్థము = అర్థ + మము
- 3) అర్థము = అర్థ + మము

### బల సంధి

- 1) అర్థము = అర్థ + మము
- 2) అర్థము = అర్థ + మము
- 3) అర్థము = అర్థ + మము

### పల్లవ సంధి

- 1) అర్థము = అర్థ + మము
- 2) అర్థము = అర్థ + మము
- 3) అర్థము = అర్థ + మము
- 4) అర్థము = అర్థ + మము

### తక్ సంధి:-

- 1) అర్థము = అర్థ + మము
- 2) అర్థము = అర్థ + మము

### రుగ సంధి

- 1) అర్థము = అర్థ + మము
- 2) అర్థము = అర్థ + మము
- 3) అర్థము = అర్థ + మము
- 4) అర్థము = అర్థ + మము

### ప్రసంగ సంధి

- 1) అర్థము = అర్థ + మము
- 2) అర్థము = అర్థ + మము
- 3) అర్థము = అర్థ + మము
- 4) అర్థము = అర్థ + మము

- 9) ముత్యపునామ = ముత్యము + అమ్మ  
 10) కంఠపునామ = కంఠము + నామ  
 11) మధురపునామ = మధురము + కంఠం

### (పాతాళ సంధి)

- 1) పూరము = పూవు + రమ్మ  
 2) పూరము = పూవు + అమ్మ  
 3) ముగ్ధ = ముడు + కడు  
 4) కంఠపునామ = కంఠ + అమ్మ

### నూతన సంధి

- 1) తేజోదనము = తేజ + తనము  
 2) తేజోదనము = తేజ + తనము  
 3) సరస్వతదనము = సరస్వతి + తనము  
 4) నిట్ట నిలవు = నిట్ట + నిలవు  
 5) పాదోదయ = పాద + యము  
 6) మహాపాదం = మహా + పాదం

### సమాసాలు

<u>సమాసపదం</u>	<u>విశేషణము</u>	<u>సమాసపదం</u>
1) చంపకవతి పట్టణము	చంపకవతి అనే పేరుగల పట్టణము	సంభావనా పూర్వము కర్మధారయం.
2) మహాభారతము	శాశ్వతమైన భారతము	విశేషణ పూర్వము కర్మధారయం.
3) సేనాధ్యక్షి	సేనాధ్యక్షుడు అనే వ్యక్తి	రూపక సమాసం
4) పదాబ్జములు	అబ్జములు వంటి పదములు	ఉపమాన ఉత్తరపద కర్మధారయం.
5) కలవకన్యలు	కలవల వంటి కన్యలు	ఉపమాన పూర్వపద కర్మధారయం.
6) మామిడిగుర్రం	గుర్రమైన మామిడి	విశేషణ ఉత్తరపద కర్మధారయం.
7) పువ్వుమధురము	పువ్వువైనది మధురమైనది	విశేషణ ఉత్తరపద కర్మధారయం.
8) వింత్రులు	వింత్రులైనవి	ఉపమాన పూర్వపద కర్మధారయం.
9) వింత్రులు	వింత్రులైనవి	ఉపమాన పూర్వపద కర్మధారయం.
10) మువ్వలు సంవత్సరాలు	మువ్వలు సంవత్సరాలు	ఉపమాన పూర్వపద కర్మధారయం.
11) మువ్వలు సంవత్సరాలు	మువ్వలు సంవత్సరాలు	ఉపమాన పూర్వపద కర్మధారయం.

12) భారతదేశం	భారత అనే పేరుగల దేశం	సంభావనా పూర్వము కర్మధారయం సమాసం
13) నలుకనలు	నాలుకైన అకలు	ఉపమాన పూర్వము కర్మధారయం సమాసం
14) సూర్యచంద్రులు	సూర్యుని, చంద్రుని	ఉపమాన పూర్వము కర్మధారయం సమాసం
15) ప్రతిదినము	దినము, దినము	ఉపమాన పూర్వము కర్మధారయం సమాసం
16) యథాశక్తి	శక్తి యంత్రం అంత శక్తిగలది	ఉపమాన పూర్వము కర్మధారయం సమాసం
17) విజయగ్రామం	విజయ నగరం గ్రామం	ఉపమాన పూర్వము కర్మధారయం సమాసం
18) అనువర్తం	వర్తమన నుసరియింపు	ఉపమాన పూర్వము కర్మధారయం సమాసం
19) అనుకూలం	కూలమును (అనగా బిడ్డను)	ఉపమాన పూర్వము కర్మధారయం సమాసం
20) యథామూలం	మూలం యంత్రం అంత	ఉపమాన పూర్వము కర్మధారయం సమాసం
21) ప్రతిమానం	మానం, మానం	ఉపమాన పూర్వము కర్మధారయం సమాసం
22) కూటాగ్రము	కూటము యొక్క దిగ్గము	ఉపమాన పూర్వము కర్మధారయం సమాసం
23) ప్రముఖ దినం	ప్రముఖమైన దినం	ఉపమాన పూర్వము కర్మధారయం సమాసం
24) నాలుగుగోత్రం	నాలుగు గోత్రాలు	ఉపమాన పూర్వము కర్మధారయం సమాసం
25) అసాధారణం	సాధారణము కానిది	ఉపమాన పూర్వము కర్మధారయం సమాసం
26) మానవచరిత్ర	మానవుల యొక్క చరిత్ర	ఉపమాన పూర్వము కర్మధారయం సమాసం

9

చందస్సు: 1MP

1) "అ-యేమి" యొక్క వాచాత్మ్యమును బుద్ధ్యావసమం దెచ్చినా" అ

మ	స	జ	న	త	త	గ
UUU	UU	UU	UU	UU	UU	U
అయేమి	యేకా	బివాస	మనుమ	జ్ఞావాస	మనదెచ్చి	నా

2) అనలజ్యముల న పరివ్రతల బాహుళ్యములైడాయ భూ

స	భ	ర	న	మ	య	వ
UU	UU	UU	UU	UUU	UUU	UU
అనల	జ్యోతుల	నపతి	వ్రతల	బాహుళ్య	రులైడ	యభూ

3) మునివర! నవు శిష్యగణముగొని చయ్యనరమ్ము విష్వనా

న	జ	భ	జ	జ	ర	ర
UU	UU	UU	UU	UU	UU	UU
మునివ	రనవు	శిష్యగ	ణముగొ	నిచయ్య	నరమ్ము	విష్వనా

4) య్యదిమగేక్తి సంయమివరా! యిటురమ్ముని పిల్లె హస్తసం

భ	ర	న	భ	భ	ర	వ
UU	UU	UU	UU	UU	UU	UU
య్యదిమ	గేక్తిసం	యమివ	రాముటు	రమ్ముని	పిల్లెహ	స్తసం

5) సఖిల విద్యగురుండు భిక్షాటనంబు

న	త	భ	హ	హ		
UU	UU	UU	UU	UU		
సఖిల	విద్యగు	రుండుభి	క్షాట	నంబు		

సూర్య ఇంద ఇంద సూర్య సూర్య  
ఇది 'తేటగేత' పద్యపాదం.

1MP అలంకారాలు:-

1) అనుచున్ జేపులుమలు కన్నుగవతో, నాస్పదబోధ్యముతో ఘన హుకారముతో  
నట్రుట్టుకుటితో, గర్జిల్లునా భోకనతనుని బూడన్...

2) "స్వభావాక్తి" అలంకారం ఉంది.

3) "న కరుణాకటాక్ష విక్షణములకై నిరీక్షించుచున్నారము."

4) పుత్తెనుప్రాసాలంకారం.

6

1) "అడిగెదనని కడు వడి జను

2) పుత్తెనుప్రాసాలంకారం.

3) "ముక్కరంద బిందు బృంద రసస్వందన సందరమగు మాతృభాషయే."

4) పుత్తెనుప్రాసాలంకారం.

5) "చూరుకు, తేరుకు, యేరుకు, నారుకు, దారువును వాడు నరవదులిల్లాన్."

6) పుత్తెనుప్రాస 'అలంకారం. (లేదా) పుత్తెనుప్రాసాలంకారం.

7) ఉదతే నూతన మదనా!

మదనాగతురంగ పూర్ణమణిమయసదనా!

సదనామయ గజ రచనా!

రదనాగేంద్ర నిభక్తి రస నరసింహ!

8) "ముక్తపదగ్రస్తం" అనే శబ్దాలంకారం ఉంది.

9) మానవా! నీ ప్రయత్నం మానవా!

10) "యమకం" అనే అలంకారం ఉంది.

11) తండ్రి! హరి జేరుమనియెడి తండ్రి తండ్రి.

12) "లాటానుప్రాస" అనే శబ్దాలంకారం ఉంది.

13) ముక్తపదగ్రస్తం:

మన వేటికి నూతనమా!

తన మానిని బ్రహ్మ దనకు దక్కితిననుమా.

14) యమకము:

లేమా! దనుజుల గెలువ లోగలేమా

ఆ తోరణం నేత్రపులతో రణానికి కారణమైంది.

15) లాటానుప్రాస:

హరి భజియించు హస్తములు హస్తములు

చిత్తశుద్ధితో జేసెడి సేవ సేవ.

16) అర్థాంతరన్యాసాలంకారం:

(అ) శివాజీ కల్లాణి దుర్గాని సాధించాడు.

విరులకు సాధ్యము కానిది లేదు కదా!

(ఆ) గొప్పవారితో ఉన్న సామాన్యులనూ గౌరవిస్తారు.

పూవులతోపాటు దాన్ని గూడా సగనెక్కిస్తారు.

(ఇ) హనుమంతుడు సముద్రాన్ని లంఘించి  
మహాత్ములకు సాధ్యం కానిది లేదు  
కదా!

(ఈ) మేఘుడుబుధికి పోయి జలం  
తెచ్చి ఇస్తాడు.

⇒ ప్రతి పదార్థం 'స్టాక' సత్త ఉన్నది. మూలభావన,  
పెన్నెల, శతకమధుకిమ, సముద్రలంఘనం, భిక్ష.

\* గమనిక: ప్రతి పదార్థం శతకమధుకిమలని ఒక పద్యం,  
మిగతిన పాదాలు (1, 4, 8, 11) నుండి ఒకటి వచ్చే  
ఉపకారం ఎక్కువ. ~~కవిక ఉత్తమమైనది~~

⇒ పద్యపూరణ, భావం కూడా (1, 4, 8, 11, 16)  
పాదాల చరణాల (\* పద్యం).

⇒ రామాయణ సంఘటన క్రమం కేసం 'రామాయణం' చదవాలి

⇒ 'ఉపరిచిత గద్యం' గైడ్ లో ప్రాక్టీస్ చేయాలి.

⇒ కవి పరిచయాల పద్య భాగం నుండి మాత్రమే చదవాలి.

⇒ ప్రక్రియ గద్య భాగం నుండి మాత్రమే (పద్య భాగంలో)

⇒ వ్యాస బాప ప్రశ్నల పద్య భాగం నుండి ఉపసరం చేయి.  
గద్య భాగం లో పదేసి వాక్యాల ప్రశ్నల చరణాలి.

⇒ ఉపవాచకం నుండి ఉత్తరాల నుండి ముగిసినా  
ముదటి రెండు కాండల పదేసి వాక్యాల ప్రశ్నల చరణాలి

⇒ ప్రశ్నలు, కర పత్రాల (వ్యాసం, ఇంద్రుని ప్రశ్న)  
సీట్ల కోవాలి

⇒ ఉపకారం గురించాలి (టెక్స్టు బుక్ లో ఉపకారాలు)

⇒ భండస్సు, పద్య పాదాన్ని గురించాలి. (వీర పద్యం)

⇒ ఉత్తరాల, పశ్చిమ పదాల, ప్రకృతి - వికృతులు, సంద్భి,  
సమాసం, (నానాభావ, వైవిధ్య భావ శాస్త్ర) టెక్స్టు బుక్  
భాగంగా చదవాలి. (పాఠం చేసే రోజున విజ్ఞానం)

⇒ జాతీయాల, సాంఘిక వాక్యాల టెక్స్టు బుక్ భాగంగా సీట్ల -  
కోవాలి (వాచకం, ఉపవాచకం నుండి)

⇒ ఉద్ధృత వచనం, పద్య కేంద్రక వ్యాసం, కరక, కర్కటి, వాక్య -  
శ్రీ గురించడం గైడ్ లో ప్రాక్టీస్ చేయాలి.

\* ప్రత్యక్ష, పరోక్ష కథనం రాసు

పాఠస్పృహ వాడు: 1. దశరథుడు, 2. కైక 3. శ్రీరాముడు.

4. లక్ష్మణుడు, 5. భరతుడు 6. హనుమంతుడు

7. సుగ్రీవుడు 8. వాలి 9. జనకుడు 10. సీత

11. సహదు 12. విశ్వమిత్రుడు 13. శావణుడు

14. క్రీబుడు 15. విభీషణుడు 16. జమినివు

17. మంథర 18. మాళిచుడు.

ప్రక్రియలు: వ్యాసం, కథ, ప్రశ్న, పీఠిక,

⇒ గద్య భాగం నుండి రాబడిన వ్యాస బాప ప్రశ్నలు.

⇒ ఉపవాచక శైలిని గ్రహించడం తెలియజేయండి.

⇒ ఉపవాచక సాంస్కృతిక ప్రభువం వివరించండి

⇒ పల్లెటూర్లు ఉనికిని, సంస్కృతిని కోల్పోయాయి  
అందుకు కారణాలు, అవి కళకళలాడాలంటే  
ఏం చేయాలి.

⇒ "పల్లెటూర్లు ప్రకాశం జీవన సౌఖ్యనికి పుట్టిల్లు"  
సమర్థిస్తూ రాయండి.

⇒ "హీరన్యకుడు ఉదవుల పాట కౌవదానికి లోభమే ప్రధానకారణం" అని తెచ్చిన మంథకుని మాటలను సమర్థించండి.

⇒ సంసార విషవృక్షమనట ఉప్పురయ్యను తెన్నూరు జైలి వెలి? వివరించండి.

⇒ ఉత్తరాశం, మనస్థాపం, గృహమందరి దున్నెరితం, వంశం పశులం ఈ పదాలను మేరలా ఉత్తం చేసుకున్నావా? రాయండి.

⇒ వివేక హానుడు మన ప్రభువును సేవించుట అంటే వన వాసిం ఉత్తమం జాని యే అన్న వివరించండి.

⇒ చూడాకట్టనికి, బొటాకట్టానికి మధ్య జరిగిన సంభాషణ, రాయండి.

⇒ చరిత్ర నిర్మాతలూ ప్రధానాస్థులూ ఉన్నారనే భావన సంపాదకులకు అంగదానికి కారణం వివరించండి.

⇒ గోరుల జాపాల పాఠం లో వృద్ధుని పాత్ర స్పష్టం

⇒ వృద్ధునికి, ప్రయోజనమైన మువకునికి మధ్య సంబంధాన్ని వివరించండి.

\* ఉపనామకం నుండి తాదాగిన పాస్ పూట ప్రశ్నలు:

⇒ తమాయలం ఎందుకు పడజాతి?

⇒ వాల్మీకి తమాయలం కనకబ్రహ్మకారం చుట్టూ విధించబడింది

⇒ తమలక్షణ భరత శత్రుఘ్నల జనన వృత్తాంతం రాయండి

⇒ తమలక్షణుల విశ్వామిత్రులగానూ రక్షించిన విధం ఎట్టిది?

⇒ సోత తమలక్షణం (రాజ) శివధనుర్థం పురిసిన విధం.

⇒ సోత తమలక్షణం వన వాస వృత్తాంతం రాయండి

⇒ సోత తమలక్షణం దండకారణి వృత్తాంతం రాయండి.

⇒ సోత తమలక్షణం గురించి రాయండి.

⇒ వాల్మీకి సుగ్రీవుల విశేషం వివరించండి

⇒ వాల్మీకి సుగ్రీవుల యుద్ధం గురించి రాయండి

⇒ తమ సుగ్రీవుల మైత్రీ గురించి రాయండి.

⇒ లంకా దహన వృత్తాంతం గురించి రాయండి

⇒ శ్రీకృష్ణ స్వప్న వృత్తాంతం గురించి రాయండి.

⇒ తమాయలం ఆధారంగా ఉన్నదవల్ల అనుబంధాన్ని విశ్లేషించండి.

⇒ తమ తావల సంస్థాపన గురించి రాయండి.

⇒ శ్రీరాముడు వాల్మీకి చంపడం ధర్మమో? క్రాంతి? వివరించండి.

⇒ హనుమంతుడు సముద్రలంఘనం చేసిన విధం వివరించండి.

## PAPER - II లోని నృజనాత్మకతపై పాఠ్యపుస్తకంలో ఇవ్వబడిన ప్రశ్నలు మరియు అదనముగా ఇవ్వబడిన ప్రశ్నలను సూచించు పట్టిక

### 1. లేఖలు

#### లేఖరీప్సలో పాటించాల్సిన నియమాలు :

- ఉత్తరం రాసేవారు లేఖ కుడివైపు పైభాగంలో శమ చిరునామా, తేదీని రాయాలి. ఇలా రాసేటప్పుడు పేరు తర్వాత కామా, ఊరి పేరు తర్వాత కామా పెట్టి, తేదీ తర్వాత ఫుల్ స్టాప్ పెట్టాలి.
- ఉద్యోగాలకోసం పెట్టే దరఖాస్తులు, ఆఫీసులకు రాసే ఉత్తరాలు మొదలైనవాటిలో ఉత్తరం రాసేవారి పేరు, చిరునామాను ఉత్తరం ఎడమవైపు పైభాగంలో రాస్తారు.
- వ్యవహార లేఖల్లో ఊరిపేరు, తేదీ ఉత్తరం ఎడమవైపు కింది భాగంలో రాస్తారు. కొందరు ఉత్తరం పైభాగాన కుడివైపు రాస్తారు. ఇలా ఏదో ఒక చోట రాస్తే చాలు.
- ఎవరికి రాస్తున్నామో వారి సంబంధన వాచకం (అమ్మ, అయ్య, స్త్రీయమైన మొదలైనవి) తరువాత కామా పెట్టాలి.
- రాయదలచిన విషయాన్ని సంగ్రహంగా, స్పష్టంగా రాయాలి. విషయం ఎక్కువగా ఉంటే పేరాల విభజన అవసరం.
- లేఖ చివరి భాగంలో కుడివైపున సంబంధ వాచకం రాసి కామా పెట్టి, దాని కింద సంతకం చేసి ఫుల్ స్టాప్ పెట్టాలి.
- చిరునామా : వ్యక్తిగత లేఖల్లో ఈ చిరునామా ఉత్తరం కింది భాగాన ఎడమవైపు ఉంటుంది. వ్యాపార, వ్యవహార లేఖల్లో ఉత్తరం పైభాగాన ఎడమవైపు ఉంటుంది.  
మనం ఎవరికి ఉత్తరం రాస్తున్నామో వారి పూర్తి పేరు, చిరునామా ఉత్తరంలోవల కూడా రాయడం అవసరం. చిరునామాలో పేరు, ఇంటినెంబరు, వీధి, ఊరు, జిల్లా, పిన్ కోడ్ తప్పక రాయాలి.

#### లేఖ బాహ్యస్వరూపము

సంబంధన

(అధికారులకు లేఖలు వ్రాస్తే వారి వివరాలు వ్రాసిన తరువాత సంబంధన వ్రాయాలి)

విషయవిశేషణ

ఉరు పేరు :

తేదీ :

చిరునామా :

పేరు :

నెంబరు : x x x x x

చిరునామా :

### 3. కరపత్రములు

#### కరపత్రము రాయటంలో పాటించవలసిన నియమాలు, పద్ధతులు

- కరపత్రానికి పైభాగంలో గునాదం లేదా సూక్తిని వ్రాసి ప్రారంభించాలి.
- కరపత్రాన్ని విషయానికి సంబంధించిన సమూహ వాచక సంబంధనతో ప్రారంభించాలి.
- దాని వెనువెంటనే విషయాన్ని వివరించాలి.
- కరపత్రాన్ని ఎవరు తయారుచేస్తున్నారో ఆ సంబంధిత సమూహము లేదా బృందం లేదా మండలి లేదా వ్యక్తుల పేరు, మరియు ఊరుపేరు వ్రాయాలి.
- ఎడమవైపున చివరన తేదీ ఉండాలి.

#### కరపత్ర బాహ్యరూపం

గునాదం లేదా సూక్తి

విషయ సమూహ వాచక సంబంధన

విషయ వివరణ

వీలయినంత వివరంగా తెలుసుకుందాం.

**Question No.33 (a) Conversation: 10 Marks**

ఇందులో ఎవరైనా ఇద్దరు వ్యక్తుల మధ్య సంభాషణ వ్రాయాలి. కనీసం ఒక్కొక్కరికి 10 exchanges అయినా ఉండేలా వ్రాయాలి. ముఖ్యంగా సంభాషణ present tense లేదా present continuous లో వ్రాయాలి. Greetings మరియు responseను సరిగా వ్రాయాలి. సంభాషణలో ఒక sequence ఉండేలా చూసుకోవాలి. ఒకరు ప్రశ్న అడిగితే మరొకరు దానికి సమాధానం చెప్పి మరొక ప్రశ్న అడగాలి. దానికి వారు సమాధానం చెప్పేలా వ్రాస్తే మంచిది. అలాగే ఎవరిమధ్య Conversation వ్రాయమంటే వారిమధ్య సంభాషణ జరుగుతున్నట్లు వ్రాయాలి మరియు ఆ topic పైనే వ్రాయాలి.

ప్రారంభం Friends మధ్య  
subordinate మధ్య.

Teacher, student లేదా Officer,

Hi! Good Morning.  
Madam.

Good Morning Sir/

Hi! Good Morning. How are you?  
are you?

Good Morning. How

Fine. How are you?  
Thank You Sir/Madam.

Fine Sir/ Madam.

ముగింపు Bye. Have a nice day.

Thank you Sir/Madam.

Bye. Have a nice day.

It's OK. All the best.

**Question No.33 (b) Diary Entry : 10 Marks**

ఇందులో structure correctగా వ్రాస్తే 2,3 marks easyగా వస్తాయి. మొత్తం past tenseలో మరియు 1st personలో వ్రాయాలి. అలాగే ఎవరి diary entry వ్రాయాలంటే వారే వ్రాస్తున్నట్లుగా వ్రాయాలి. Time వ్రాసేటప్పుడు 8PM, 9PM, 10PM అనే వ్రాయాలి. ఇవ్వబడిన topicకి సంబంధించిన విషయాన్ని మాత్రమే వ్రాయాలి. Sentence construction మరియు grammarలో తప్పులు లేకుండా జాగ్రత్తపడితే ఎక్కువ score చేయవచ్చు. కనీసం 10, 15 lines వ్రాయండి.

Date: ..... ,

Day :..... ,

Time: ..... .

Dear Diary,

Signature

**MATTER IN 10-15 LINES**

**Question No.34 (a) Letter Writing : 10 Marks**

ఇందులో structure correctగా వ్రాస్తే 3,4 marks easyగా వస్తాయి. ముఖ్యంగా రెండు రకాల letters ఉన్నాయి. అవి 1. personal letters, 2. Official letters . ఇక్కడ రెండు రకాల letters యొక్క structure ఇస్తున్నాము. జాగ్రత్తగా practice చేసి ఎక్కువ marks పొందుటకు ప్రయత్నించండి.

**PERSONAL LETTER**

Place

XXXXX,

Date

..... .

Dear .....,( Name of the friend)

I am fine here and hope the same with you.

**TWO PARAGRAPHS OF MATTER WITH ATLEAST 10-15 LINES**

please convey my regards to your parents and blessings to your brother / sister.

Yours

lovingly,

XXXXXXXXXX,

(Signature)

Address on the envelope:

To

Name:XXXXXX,  
S/o. XXXXXX,  
D.No. XXXXXX,  
XXXXXX Post,  
XXXXXX Mandal,  
XXXXXX District,  
Pin Code. XXXXXX .

**OFFICIAL LETTER :**

From

Name:XXXXXX,  
D.No. XXXXXX,  
XXXXXX Post,  
XXXXXX Mandal,  
XXXXXX District.

To

The ..... ( Headmaster, Editor, Collector, Sub Inspector, Commis-  
sioner etc.)

....., (Office Name)

..... (Name of the Village/Town/City)

Respected Sir/Madam,

**INTRODUCTION OF YOURSELF**

**ONE PARAGRAPH ABOUT THE ISSUE**

Thanking You Sir/ Madam.

Place: XXXXX,  
faithfully/ Yours sincerely,  
Date : XXXXX.  
XXXXXXXXX

(signature)

**Question No.34 (b) Biographical Sketch : 10 Marks**

ఈ topic ఎలా వ్రాయాలో Model paperలో ఇచ్చిన question ఆధారంగా వివరిస్తున్నాము. Biographical Sketches అన్ని దాదాపు ఈ Modelలోనే ఉంటాయి. కాబట్టి ఇవ్వబడిన detailsను sentenceగా ఎలా మారుస్తున్నామో గమనించండి. అలాగే practice చేసే ప్రయత్నం చేయండి.

ఇందులో *italics* లో ఇవ్వబడినవి *question*లో ఇవ్వబడిన పదాలు. Underline చేయబడిన పదాలు మనం *add* చేసిన పదాలు. ఏవి *add* చేశామో, ఎలా చేశామో గమనించి అలాగే వ్రాయడం అలవాటు చేసుకుంటే *easy*గా ఈ topicలో ఎక్కువ marks SCORE చేయవచ్చు.

*Write a Biographical Sketch of Anita Desai, a famous novelist and writer of children stories.*

This is the Biographical Sketch of Anita Desai. She is a famous novelist and writer of children stories.

*Born : 24th June 1937 (82 years) Mussorie*

She was born on 24th June 1937 at Mussorie. Now she is 82 years old.

*Education : Mirinda House, University of Delhi*

She studied at Mirinda House, University of Delhi

*Spouse : Ashvin Desai ( m. 1958)*

She married Asvin Desai in the year 1958.

*Children : Kiran Desai*

They were blessed with a child, Kiran Desai.

*Film : In Custody (novel)*

Her novel In custody is the base for the film In Custody.

*Awards : Sahitya Academy Award (1978), shortlisted for Booker Prize(1980),(1984),(1999), Padma Bhushan (2014)*

She won Sahitya Academy Award in 1978. She was shortlisted for Booker Prize in 1985,1984 and 1999. She was awarded the great honour of India Padma Bhushan in 2014.

*Works : The Zigzag, Way, In Custody, The Village by the sea, Games at Twilight, Fire on the Mountain etc.*

She wrote many novels and stories. Some of her works are The Zigzag, Way, In Custody, The Village by the sea, Games at Twilight, Fire on the Mountain etc.

**Question No.35 (a) Framing Wh questions : 10 Marks**

ఇందులో నుండి C Reading ఒక paragraph ఇవ్వబడుతుంది. అందులోని sentenceలో కొంతభాగం underline చేయబడుతుంది. underline చేయబడిన భాగం answerగా రావాలంటే question ఎలా అడగాలో మనం వ్రాయాలి. ఈ క్రింది structureని follow అయితే ఇవ్వబడిన 10 marks easy గా score (5X2=10 Marks) చేయవచ్చు. ఈ క్రింది పదాలను బాగా అర్థం చేసుకోవాలి.

Who = ఎవరు      What = ఏమిటి      Why = ఎందుకు

When = ఎప్పుడు

Which = ఏది      Whom = ఎవరిని      Whose = ఎవరిది

How = ఎలా

Howmany = ఎన్ని      Howmuch = ఎంత      Howlong = ఎంత కాలం

How far = ఎంతదూరం

Savitri (A) was adored for the matchless ease in expression. Meenakumari, the heroine of Hindi films said, “when I watch Savitri’s acting, I usually get doubts about my own action.”(B) Her strikingly expressive (C) eyes and her superb sense of timing made her one of the greatest actresses. Maya Bazaar (D) is another film that brought fame to Savitri. She played the role of Sasirekha (E).

Savitri (A) was adored for the matchless ease in expression.

ఇక్కడ underline చేయబడిన పదం person name కాబట్టి question word Who సరిపోతుంది. underline పదం place లో Who ఉంచి మిగిలిన మొత్తం కలిపి వ్రాస్తే answer అయిపోతుంది.

(A) : Who was adored for the matchless ease in expression? Meenakumari, the heroine of Hindi films said, “when I watch Savitri’s acting, I usually get doubts about my own action.”(B)

ఇక్కడ underline చేయబడిన words Quotations (“ .....”) లోపల ఉన్నాయి కాబట్టి subject ఏమి అన్నది అని అడగాలి కాబట్టి question word What సరిపోతుంది.

Verb (Said)ను did+say గా విడదీయాలి.

(B) : What did Meenakumari, the heroine of Hindi films, say? (OR)  
What did Meenakumari, the heroine of Hindi films, say about Savitri?

Her strikingly expressive (C) eyes and her superb sense of timing made her one of the greatest actresses.

ఇక్కడ underline చేయబడిన words ‘Her eyes’ ఎలా ఉన్నాయో చెబుతున్నాయి కాబట్టి question wordగా How సరిపోతుంది.

(C) : How were her eyes ?

Maya Bazaar (D) is another film that brought fame to Savitri.

ఇక్కడ underline చేయబడిన words సినిమా గురించి చెబుతున్నాయి కాబట్టి question wordగా Which సరిపోతుంది.

(D) : Which film brought fame to Savitri?

She played the role of Sasirekha (E).

ఇక్కడ underline చేయబడిన పదం ఏ role play చేసింది అని చెబుతున్నది కాబట్టి question wordగా Which సరిపోతుంది.

played అనే Verbను did+play గా విడదీయాలి.

(E) : Which role did Savitri / she play? (OR)

Which role did Savitri / she play in Maya Bazaar?

By.

Tummapudi Maruthi Rao

M.A., M.Phil, B.Ed., (Ph.D.) - School Assistant in English,  
ZPHS, Vellatur, cell.9441541085

दो अंकवाले प्रश्न :

बरसते बादल :

- 1) वर्षा सभी प्राणियों के लिए जीवन का आधार है। कैसे?
- 2) वर्षा ऋतु के प्राकृतिक सौंदर्य पर अपने विचार लिखिए।
- 3) प्रकृति की कौन-कौन सी चीजें मन को छू लेती हैं?

ईदगाह :

- 1) हमिद अन्य लडकों से अधिक प्रसन्न है। क्यों?
- 2) हमिद चिमटा क्यों खरीदना चाहता है?
- 3) अपनी दादी के प्रति हमिद की भावनाएँ कैसी थीं?
- 4) ईदगाह कहानी के कहानीकार कौन थे? उनके बारे में आप क्या जानते हैं?

हम भारतवासी :

- 1) ऊँच-नीच का भेद मिटाने के लिए हम क्या क्या कर सकते हैं?
- 2) सत्य, अहिंसा, त्याग और समर्पण की बगिया महकाने के लिए हम क्या-क्या कर सकते हैं?
- 3) उलझनों से बचे रहने के लिए हमें कैसी सावधानियाँ लेनी चाहिए?
- 4) निराशावादी और आशावादी के स्वभाव में क्या अंतर होता है?

कण-कण का अधिकारी:

- 1) कण-कण का अधिकारी कौन है?

- 2) भाग्य और कर्म में आप किसे श्रेष्ठ मानते हैं? क्यों?

- 3) श्रम के बल पर हम क्या-क्या हासिल कर सकते हैं?
- 4) श्रमिक के सम्मुख क्या-क्या झुके रहते हैं?

लोकगीत :

- 1) लोकगीत ग्रामीण जनता का मनोरंजक साधन हैं। कैसे?
- 2) पहाड़ी किसे कहा जाता है?
- 3) बारहमासा लोकगीत के बारे में आप क्या जानते हैं?
- 4) आल्हा लोकगीत के बारे में लिखिए।
- 5) बिदेसिया लोकगीत के बारे में लिखिए।

अन्तराष्ट्रीय स्तर पर हिन्दी:

- 1) हिन्दी भाषा की विशेषता क्या है?
- 2) हिन्दी भाषा सीखने से क्या-क्या लाभ हैं?
- 3) हिन्दी विश्व भाषा है। कैसे?
- 4) भारत देश को स्वतंत्र कराने में हिन्दी भाषा का क्या योगदान रहा होगा?

भक्तिपद:

- 1) प्रभु के प्रति रैदास की भक्ति कैसी है?
- 2) श्रीकृष्ण के प्रति मीरा की भक्ति कैसी है?
- 3) मानव जीवन में भक्ति भावना का क्या महत्व है?
- 4) संत किसे कहते हैं?

स्वराज्य की नींव:

- 1) बाबा गंगादास ने रानी लक्ष्मीबाई से क्या कहा था?
- 2) 'स्वराज्य की नींव' का तात्पर्य क्या है?
- 3) लक्ष्मीबाई साहसी नारी थी।। सिद्ध कीजिए।
- 4) लक्ष्मीबाई तात्या से क्यों नाराज थी?

दक्षिणी गंगा गोदावरी

- 1) गोदावरी को धीर-गंभीर माता की संगना क्यों दी होगी?
- 2) गोदावरी नदी टापुओं के बारे वर्णन कीजिए।
- 3) गोदावरी नदी के भँवरों के बारे में आप क्या जानते हैं?
- 4) आन्ध्र को अन्नपूर्ण कहलाने में नदियों का योगदान व्यक्त कीजिए।

नीति दोहे:

- 1) सच्चे मित्र की पहचान कब होती है?
- 2) बिहारी ने नर की तुलना किससे की है?
- 3) रहीम ने जल के महत्व के बारे में क्या बताया है?
- 4) बिहारी ने सोने की तुलना धतूरे से क्यों की होगी?

जल ही जीवन है:

- 1) हमारे जीवन में जल का महत्व क्या है?
- 2) जल की समस्या भविष्य में क्या विपत्तियाँ

ला सकती हैं?

- 3) जल स्रोतों के रखरखाव के बारे में आप क्या जानते हैं?
- 4) जल की समस्या का समाधान क्या है?

धरती के सवाल-अंतरिक्ष के जवाब:

- 1) अच्छे नागरिक बनने के लिए कौन से गुण होने चाहिए।
- 2) बच्चों के लिए कलाम जी का संदेश क्या है?
- 3) बच्चों के लिए टेसी थामस का संदेश क्या है?
- 4) टेसी थामस को अग्नि-पुत्री का उपनाम क्यों दिया गया होगा?

उपवाचक :

शांति की राह में

- 1) शांति की परिभाषा क्या हो सकती है?
- 2) नेल्सन मंडेला के जीवन से हमें क्या संदेश मिलता है?
- 3) मदर तेरेसा ने अपने जीवन में क्या सिद्ध कर दिखाया है?

दो कलाकार:

- 1) अरुणा की ममता पर अपने विचार बताइए।
- 2) चित्रा ने विदेश जाकर क्या किया?

अपने स्कूल को एक उपहार:

- 1) राजू को उसका पुराना स्कूल कैसा लगता था
- 2) राजू के प्रति नये स्कूल के साथियों का

व्वहार कैसा था?

- 3) राजू ने अपने स्कूल को किस तरह उपहार समर्पित किया?

अनोखा उपाय:

- 1) राजा कुमार वर्मा के राज्य में अकाल की स्थिति क्यों उत्पन्न हुई होगी?
- 2) अकाल की समस्या के निवारण के लिए राजा ने क्या-क्या उपाय सोचे होंगे?

सारांश (पद्य )

- 1) बरसते बादल
- 2) हम भारतवासी
- 3) कण-कण का अधिकारी

सारांश (गद्य)

- 1) ईदगाह
- 2) लोकगीत
- 3) अन्तर्राष्ट्रीय स्तर पर हिन्दी
- 4) स्वराज्य की नींव
- 5) दक्षिणी गंगा गोदावरी
- 6) 'जल ही जीवन है' सिद्ध कीजिए।

पत्र:

- 1) बीमारी के कारण तीन दिन की छुट्टी माँगते हुए प्रधानाध्यापक के नाम छुट्टी पत्र लिखिए।
- 2) भाई या बहन की शादी में सम्मिलित होने

के लिए पाँच दिन की छुट्टी माँगते हुए प्रधानाध्यापक के नाम पत्र लिखिए।

- 3) आवश्यक किताबें खरीदने के लिए पैसे माँगते हुए पिता के नाम पत्र लिखिए।
- 4) विहारयात्रा जाने के लिए अनुमति माँगते हुए पिता के नाम पत्र लिखिए।
- 5) हिन्दी सीखने की आवश्यकता बताते हुए मित्र के नाम पत्र लिखिए।
- 6) किसी कालेज में प्रवेश पाने के लिए प्रधानाचार्य के नाम पत्र लिखिए।
- 7) नगर की सफाई के बारे में वर्णन करते हुए नगर निगम के प्रधान पर पत्र लिखिए।


निबंध:

- 1) वृक्ष हमारे साथी (या) वृक्षों से लाभ
- 2) पुस्तकालय
- 3) दीपावली (या) कोई त्योहार
- 4) आदर्श विद्यार्थी
- 5) प्रिय नेता
- 6) दूरदर्शन
- 7) कम्प्यूटर
- 8) अम्मा ओडी
- 9) स्वच्छ भारत



# MODEL PAPER

## ENGLISH



Time : 3.15 Hrs

Max. Marks : 100

### Instructions:

1. This question paper has 35 questions in three sections (A, B and C).
2. Answer all the questions on a separate answer book supplied to you.
3. 15 minutes of time is allotted exclusively for reading the question paper and 3-00 hours for writing the answers.
4. Answer all the questions of Section - B (Grammar & Vocabulary) in the same order at one place in your answer book.
5. Start answering the questions as you read them.

### SECTION - A : Reading Comprehension

#### Questions (1 - 5) : Read the following passage carefully.

Nick's father was a computer programmer and accountant and he taught his little son how to type with his toe at just 6 years old. His mum invented a special plastic device that meant he could hold a pen and pencil.

Despite the risk of being bullied, his parents insisted on his attending mainstream school.

'It was the best decision they could have made for me,' adds Nick, who later achieved a degree in Financial Planning and Real Estate. 'It was very hard but it gave me independence.'

Nick, who was teased and bullied, had an electric wheelchair for mobility, and a team of carers to help him.

'I was deeply depressed when I was eight years old,' he said. 'I went to my mum crying and told her I wanted to kill myself.'

'I felt cold and bitter. I hated God for doing this to me and was terrified of what would happen when my parents weren't there to look after me.'

'I could brush my own teeth with a wall mounted brush and wash my own hair with pump action soap, but there was so much that was impossible for me.' (*Attitude is Altitude*)

**Now, answer the following questions:**

**5×2=10M**

1. What was the purpose of the device that was invented by Nick's mother?
2. On which did Nick's parents insist of ?
3. Nick learned to type with his toe, with his .....  
(A) father's help and mother's invention.  
(B) father's help and training.  
(C) father's computer and mother's training.

4. For mobility, Nick had to depend on .....  
(A) a wheelchair and a team.  
(B) an electric wheelchair and a team of carers.  
(C) a team of carers.
5. The thing that was used by Nick was .....  
(A) motor bike  
(B) wall mounted tooth brush  
(C) a pet dog

**Questions (6 - 8) : Read the following stanza carefully.**

Out in the East the jungle listens  
The tigress, plaintive, growls in pain,  
The great trees hear her breathing, shaking  
Inside her still, the new lives wait,  
These cubs could be the last ones ever  
To freely live and roam and mate.  
Our grandchild knows the tiger never  
Or will the dreamer wake ?

*(Or Will the Dreamer Wake ?)*

**Choose the correct answers to the following questions.**

**3 × 2 = 6M**

6. The jungles are located mostly at  
(A) The East  
(B) The West  
(C) The North
7. What does the great trees listen to  
(A) The cry of the nature.  
(B) The sound of falling trees.  
(C) The painful growls of a tiger
8. How are the tiger cubs different?  
(A) They are of a special breed.  
(B) They would be the last ones on Earth.  
(C) They would be born in a safe area

**Questions (9 - 10) : Read the following passage carefully.**

Fifty years ago, director K.V. Reddy or for that matter, producers, Nagireddy and Chakrapani would not have imagined what they were unleashing when they decided to make Maya Bazar a bilingual in Telugu and Tamil.

(Maya Bazaar)

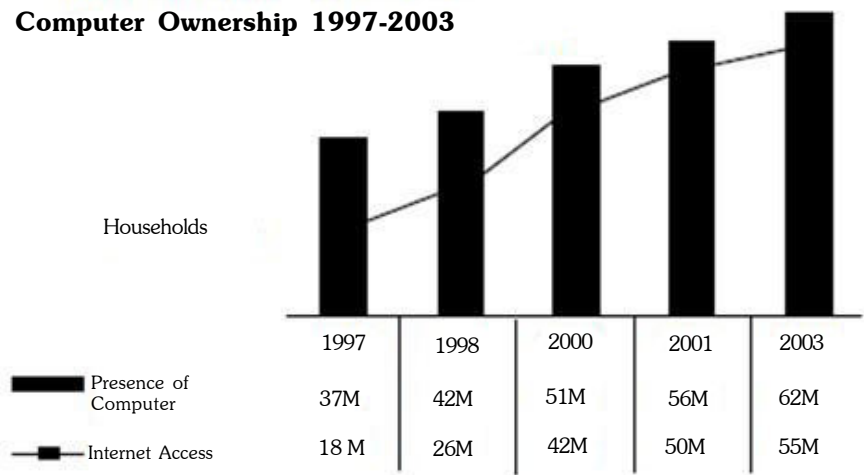
**Now answer the following questions :**

**2×2=4M**

9. Who is the director of 'Maya Bazaar' ?  
(A) Nagireddy  
(B) K.V. Reddy  
(C) Chakrapani
10. Who are the producers of 'Maya Bazaar' ?  
(A) Nagireddy and K.V. Reddy  
(B) Nagireddy and S. V. Ranga Rao  
(C) Nagireddy and Chakrapani

**Questions (11 - 15) : Read the following Bar Diagram carefully.**

**Computer Ownership 1997-2003**



**Now, answer the following questions.**

**5×2=10M**

11. What does the graph say about? ( )
12. How does the household internet usage increase over the period? ( )
13. The maximum number of internet users were in: ( )  
(A) 1998 (B) 2000 (C) 2003
14. The increase in the number of internet users have become ( )  
(A) Increased (B) Decreased (C) three times
15. Choose the true statement from the following. ( )  
(A) The number of internet users is equal to that of the computer users.  
(B) The usage of computers and internet has almost doubled.  
(C) Most of the people have started using internet.

## SECTION - B : Grammar & Vocabulary

*Note : Answer all the questions of Section - B (Grammar & Vocabulary) in the same order at one place in your answer book.*

**16. Combine the following sentences using 'which'. 2 M**

There is a snake on the road side. It looks very dangerous.

Ans. ....

**17. Change the following sentence into passive voice. 2 M**

I totally love the English Premier League.

Ans:.....

**18. Combine the following sentences using 'though'. 2 M**

He took the earliest bus possible. Still he couldn't reach there on time.

Ans:.....

**19. Fill in the blanks with suitable prepositions given in the bracket. 2×1 = 2 M**

(a) She has started her work.....your proposals.

(in accordance with / according to / by way of)

(b) They reached France.....London.

(by means of / by way of / by the side of)

**20. Fill in the blanks with suitable forms of verbs given in the bracket.**

**2×1 = 2 M**

(a) Human beings who are exposed to noise pollution ..... (develop) high BP, stress.

(b) Our music ..... (come) to enjoy worldwide popularity.

**21. Your friend is very fat. You are sure of one thing that sooner or later, he / she will start to develop severe health issues. You feel that your friend should start to do some physical exercises as soon as possible. Advise him / her the same. 2 M**

Ans:.....

**22. Change the following into a polite request. 2 M**

A stranger to you : "Give me your mobile."

Ans:.....

**23. What do the following sentences mean ?**

**Choose the correct answer and write it in your answer book.      2×1 = 2 M**

(i) Keep quiet, will you ?

[A] making a request      [     ]      [B] giving an order      [     ]

[C] making a suggestion      [     ]      [D] asking a question      [     ]

(ii) Can I help you ?

[A] seeking permission      [     ]      [B] asking for help      [     ]

[C] offering help      [     ]      [D] seeking advice      [     ]

**24. Read the paragraph and write the synonyms of the underlined words choosing from the words given in the box.      4 × 1 = 4 M**

***extraordinary, unequalled, affect, remarkable***

It was a unique (a) friendship that developed between a French-Canadian priest and one of the world's greatest (b) film directors, and had a singular (c) impact (d) on Bengali films both academically and practically.

(a) \_\_\_\_\_ (b) \_\_\_\_\_ (c) \_\_\_\_\_ (d) \_\_\_\_\_

**25. Read the paragraph and match the words under 'A' with their antonyms under 'B'      4 × 1 = 4 M**

I wanted to prepare (a) myself, get to know (b) his works more, so that when we met, there could be a worthwhile dialogue," he said. When they finally met, it was the beginning (c) of a close friendship (d) that lasted 22 years- until Ray's death in 1992.

**A**

**B**

- |                |         |                  |
|----------------|---------|------------------|
| (a) prepare    | (     ) | 1. emergence     |
| (b) know       | (     ) | 2. enmity        |
| (c) beginning  | (     ) | 3. ending        |
| (d) friendship | (     ) | 4. misunderstood |
|                |         | 5. manipulated   |
|                |         | 6. neglect       |

**26. Fill in the blanks with the right form of the words given in brackets.      4 × 1 = 4 M**

I couldn't convince him to buy a new pair. .... (a) (Reluctant/Reluctantly/Relutantable) I gave him the hunting boots I was wearing. I then took out my pair of leather shoes from the trunk, and noticed my father's face lighting up with .....(b).(content/contented/contentment) ..... (c) (Sudden/Suddenly/Suddenness) he looked at me and said, 'Take care. Write to us...' Father ..... (d) (want/wanted/wanting) to say something but the bus started moving.

27. Complete the spellings of the words with 'ea', 'ia', 'io', or 'ou'.  $2 \times 1 = 2 \text{ M}$

This self-consci \_\_ \_ sness had probably to do with my educat \_\_ \_ n.

28. Complete the words with correct suffixes given in brackets.  $2 \times 1 = 2 \text{ M}$

(a) A special plastic device me \_\_\_\_\_ (ant / ent) he could hold a pen and pencil.

(b) My parents were tru \_\_\_\_\_ (ely / ly) proud of me.

29. Find the wrongly spelt word and write the correct spelling.  $2 \times 1 = 2 \text{ M}$

(a) synthesis, interpretasion, bewilder, eminent

A: .....

(b) stoop, bargain, wipe, buraue

A: .....

30. Read the following dictionary entry of the word "intensity" given below.

**intensity** *noun*

- ADJ. **high, low** *a band of light with high intensity*  
| **fierce, great** *The sun beat down with fierce intensity.* ♦  
*He studied the report with great intensity.* | **emotional** |  
**passionate**
- VERB + INTENSITY **decrease (in), reduce (in)** | **grow in, increase (in)** *Her headaches started to increase in intensity.* | **vary in**
- PREP. **in** – *The pain was growing in intensity.*

Now, answer the following questions using the information above.

$2 \times 1 = 2 \text{ M}$

(a) The antonym for the word 'reduce' from the above entry is

Ans. ....

(b) The common preposition that is usually used with the word 'intensity' is.

Ans. ....

31. Arrange the following words under correct heading.  $8 \times \frac{1}{4} = 2 \text{ M}$

walking, hardly, suddenly, carry, protested, thoughtfully, appear, fast

No.	Verbs	No.	Adverbs
1.		1.	
2.		2.	
3.		3.	
4.		4.	

**32. Match the following words in Part –A with their meaning in Part – B. Write only letters of Part – B in the appropriate brackets corresponding to Part – A**

**4 × ½ = 2 M**

**Part – A**

**Part – B**

- |                |   |   |  |
|----------------|---|---|--|
| 1. compilation | ( | ) | (A) something that is said or done which makes someone feel calmer |
| 2. deplorable  | ( | ) | (B) a long search for something                                    |
| 3. reassurance | ( | ) | (C) important or useful  |
| 4. worthwhile  | ( | ) | (D) very bad, unpleasant and shocking                              |
|                |   |   | (E) something consists of different pieces of information          |
|                |   |   | (F) the degree to which someone is admired                         |

**SECTION - C : Creative Expression**

**33. (a)** Ray, as mentioned in the lesson, had shifted himself from commercial film to that of Art ones. Write a conversation between two students on Ray's shift from commercial art to the making of films. **10 M**

**[OR]**

**(b)** Imagine that you were one of the students who witnessed the humiliation done to Kalam in the classroom. Reflect on the incident and write your emotions in your diary.

**34.(a)** You are Keerti/Krishna of 56-IC, The Maples, Attili, West Godavari. You bought a new "VIP" Washing Machine from M/s Rama Electronic, Commercial Street, Attili last week. Now you find that the machine makes an unbearable noise and motor tears delicate fabrics. Write a letter to the dealer complaining about the same and requesting him to change the machine as early as possible. **10 M**

**[OR]**

**(b)** Write a short biographical sketch of Anu Kumar, a famous Actress, basing on the following hints.

- |                |   |   |
|----------------|---|---|
| Age            | - | 24 years                                  |
| Height         | - | Six feet, weight – 40 kg                  |
| Marital status | - | Unmarried                                 |
| Family         | - | Two sisters, One brother                  |
| Education      | - | B.A.                                      |
| National award | - | 1999                                      |
| Specialities   | - | Acted in ten movies, Good sense of humour |

**35. (a) Read the following passage carefully focusing on the underlined parts.**

The Second World War broke out in 1939(A), when I was eight years old. For reasons I have never been able to understand, a sudden demand for tamarind seeds (B) erupted in the market. I used to collect the seeds and sell them to a provision shop on Mosque Street. A day's collection would fetch me the princely sum of one anna. My brother-in-law Jallaluddin would tell me stories about the War which I would later attempt to trace in the headlines in Dinamani. Our area, being isolated (C), was completely unaffected by the War. But soon India was forced to join the Allied Forces and something like a state of emergency was declared. The first casualty came in the form of the suspension of the train halt at Rameswaram station.

The newspapers now had to be bundled and thrown out from the moving train on the Rameswaram Road between Rameswaram and Dhanuskodi. That forced my cousin Samsuddin(D), who distributed newspapers in Rameswaram, to look for a helping hand to catch the bundles and, as if naturally, I filled the slot. Samsuddin helped me earn my first wages. Half a century later, I can still feel the surge of pride in earning my own money for the first time.

Every child is born, with some inherited characteristics, into a specific socio-economic and emotional environment, and trained in certain ways by figures of authority. I inherited honesty and self-discipline (E) from my father; from my mother, I inherited faith in goodness and deep kindness and so did my three brothers and sister.

**Now frame 'WH-' questions to get the underlined parts in the passage as answers.**

**10 M**

**[OR]**

**(b) Study the following Table**

***The diagram stating the Market share of Laptops in 2006 & 2007.***

<b>Company</b>	<b>2006% Market Share</b>	<b>2007% Market Share</b>
HP	31.4	34
Dell	16.6	20.2
Acer	11.6	10.7
Toshiba	6.2	7.3
Lenovo	6.6	6.2
Fujitsu-Siemens	4.8	2.3
Others	22.8	19.3
Total	100	100

Now write a paragraph describing the information depicted in the diagram above.

# ANSWERS

## SECTION-A

### (Q. 1 - 5)

1. Nick's mother invented a device with which he could hold a pen or a pencil.
2. on his attending mainstream school.
3. B
4. B
5. B

### (Q. 6 - 8)

6. A
7. C
8. B

### (Q. 9 - 10)

9. B
10. C

### (Q. 11 - 15)

11. The graph depicts the data in the increase of Computers and internet, from 1997 to 2003.
12. There were about 50% Internet users in 1997, which became about 90% in 2003.
13. C                      14. C                      15. C

## SECTION-B

16. On the roadside, there is a snake which looks very dangerous.
17. The English Premier League is totally loved by me.
18. Though he took the earliest bus possible, he couldn't reach there on time.
19. (a) in accordance with , (b) by way of
20. (a) will develop (b) has come
21. It's good for you that you do some physical exercises.
22. Would you mind giving me your mobile ?
23. (i) [C] (ii) [C]
24. (a) unequalled (b) extraordinary (c) remarkable (d) affect
25. (a) 6 (b) 4 (c) 3 (d) 2
26. (a) reluctantly (b) contentment (c) suddenly (d) wanted
27. This self-consciousness had probably to do with my education.

28. (a) A special plastic device meant he could hold a pen and pencil.

(b) My parents were truly proud of me.

29. (a) interpretation

(b) bureau

30. (a) increase (b) in

31. Verbs : walking, appear, carry, protested

Adverbs : hardly, fast, thoughtfully, suddenly

32. 1. E 2. D 3. A 4. C

### SECTION- C

- 33(a) Subba Rao : Rama Rao, don't you know that Satyajit Ray used to produce documentary films and advertisements ?
- Rama Rao : Yes, many people divined his creativity and asked him to produce big films though it is a transition from a safer desk to uncertainties.
- Subba Rao : What are the consequences of his change?
- Rama Rao : Ray's first film was Pather Panchali (1955), which won eleven awards followed by Aparajito (1956) and Apur Sansar (1959). These films form the Apu trilogy.
- Subba Rao : What are his later films?
- Rama Rao : They include Charulatha (1964), Ashanti Sankat (1973) and many others.
- Subba Rao : What's Roberge's role?
- Rama Rao : Besides Roberge, there were many other foreigners who associated, helped and influenced by Ray.
- Subba Rao : Finally Satyajit Ray (1921-1992) remained as a director, producer, screen play writer, composer, writer and graphic designer.
- Rama Rao : Do you know about Chitrabani ?
- Subba Rao : It was established by Roberge, the French-Canadian priest. It was a film institute and Ray also associated with it. This institute not only produced important documentary features, but also became breeding centre for local talent for film making.
- Rama Rao : There are many more interesting aspects about Ray, but I'll tell you next time. Till then Bye! Have a nice day!
- Subba Rao : Thank you very much for enlightening me on Ray !

[OR]

(b)

Monday,  
24-6-2019,  
7:30 pm.

Today is a bady day for all of us, especially worst one, for Ramanatha Sastry and Kalam, a new teacher came to our class. I was also a student sitting in the same section. As usual Kalam, wearing cap, sat in the front row next to Ramanadha Sastry, who wore the sacred thread. The new teacher could not tolerate a Hindu priest's son sitting with a Muslim boy. He asked Kalam to go and sit on the back bench. Kalam felt sad and greatly humiliated. Sastry looked utterly down cast. I felt very embarrassing and equally humiliated. My first impulse was to question the teacher why we should follow our social ranking based on caste, creed, sect and religion. I was unable to put up with his religious orthodoxy and conservative nature. I was deeply distressed that such religious fanatics can never educate and enlighten the modern students in the fast-changing global scenario of enormous competition. I wish the teacher must be changed.

x x x x x x

**34.(a)** 56-IC,

The Maples,  
Attili,  
West Godavari.  
5th January, 20xx.

M/s. Rama Electronics,  
Attili.

Sub:- Complaining about the Washing Machine.

Sir,

I am sorry to inform you that the Washing Machine which I bought from your shop against cash memo No.200 dated 7th December with two year guarantee has stopped working well after ten days. Now the machine makes an unbearable noise and the motor in tearing delicate fabrics. All these are causing great inconvenience and I feel cheated. I, therefore, request you to remove the fault if it is minor or replace it for a new one as per the conditions of guarantee certificate. Your quick action will be highly appreciated.

Thanking you,

Yours faithfully,  
Keerthi

TO  
M/s. Rama Electronics,  
Attili.

[OR]

**(b)** Anu Kumar, a famous actress, is 24 years old. She is six feet tall and weighs 40 kg. Her family comprises of two sisters and one brother. This actress has not married yet and is single. She received her education upto the graduation level and was awarded the national award in 1999. Anu Kumar has acted in ten movies and has a good sense of humour. That's why she is liked by one and all in her group. I wish her all success in life.

**35.(a)** (A) When did the Second World War break out ?

(B) What had a sudden increase in demand during that time ?

(C) Why was their area unaffected by the war ?

(D) Who distributed Newspapers in Rameswaram ?

(E) What did he inherit from his father ?

**[OR]**

**(b)** Given is a table about the market shares of different Laptop manufacturers, in the years of 2006 and 2007. In both the years, HP has topped the table with 31.4 % and 34 %, respectively, followed by Dell with 16.6% and 20.2 %. Acer is at third place with 11.6% and 10.7%, where as Toshiba follows next with 6.2% and 7.3%. Lenovo comes next with 6.6% that got decreased to 6.2 % in 2007. Fujitsu-Siemens fills as the last individual company with 4.8% and 2.3%, where as the unsorted companies rules the market with 22.8% and 19.3%.